



Tamil Nadu Uniformed Services Recruitment Board
தமிழ்நாடு சீருடைப் பணியாளர் தேர்வு வாரியம்
Recruitment of Sub-Inspectors of Police (Taluk & AR) – 2022
சார்பு ஆய்வாளர்கள் தேர்வு (தாலுகா மற்றும் ஆயுதப்படை) – 2022

Written Examination for Departmental Candidates/துறை விண்ணப்பதாரர்களுக்கான எழுத்து தேர்வு

Question Booklet Series/
வினாத்தாளின் வகை

A

Enrolment No. /சேர்க்கை எண்

OMR Answer Sheet Number
OMR விடைத்தாளின் எண்

Question Booklet Serial Number
வினாத்தாளின் வரிசை எண்

Duration : 3 Hours

Total Marks : 85

காலம் : 3 மணிகள்

மொத்த மதிப்பெண்கள் : 85

INSTRUCTIONS

1. This question paper should be opened only after receiving the instruction from the examination hall invigilator.
2. This question paper contains 30 questions in Part A (General Knowledge) and 140 questions in Part B (Psychology, Law and Police subjects).
3. Answer all the questions.
4. Each correct answer has half mark.
5. Write the Enrolment No. and Sl. No. of the OMR answer sheet at the appropriate place in the front page of the question paper.
6. The type of question booklet series and the correct answers to the questions (A, B, C or D) should be shaded in the relevant circles using blue or black ball point pen. The answer sheet without shading the type of question booklet series will not be evaluated.
7. For each question only one answer is to be chosen and shaded.
8. For wrong, multiple and improper shading in answer sheets, no marks will be given for that answer.
9. If there is any printing error, or error in Page No. in the question paper, the same should be brought to the notice of the invigilator immediately and obtained a new question paper before the commencement of written examination.
10. All the questions are bilingual except language questions (English & Tamil).

அறிவுரைகள்

1. இந்த வினாத்தாளை தேர்வு அறை கண்காணிப்பாளரின் அறிவுறுத்தல் பெற்ற பின்னரே திறக்க வேண்டும்.
2. இவ்வினாத்தாளில் பகுதி 'அ' (பொது அறிவு) பிரிவில் 30 வினாக்களும் மற்றும் பகுதி 'ஆ' (உளவியல், சட்டம் மற்றும் காவல் துறை) சம்பந்தமான பாடங்களில் 140 வினாக்களும் உள்ளன.
3. அனைத்து வினாக்களுக்கும் விடையளிக்க வேண்டும்.
4. ஒவ்வொரு சரியான விடைக்கும் அரை மதிப்பெண் வழங்கப்படும்.
5. சேர்க்கை எண் மற்றும் OMR விடைத்தாளின் எண்ணை அதற்குரிய இடங்களில் வினாத்தாளின் முதல் பக்கத்தில் எழுதவும்.
6. இந்த வினாத்தாளின் வகை மற்றும் சரியான விடைகளை விடைத்தாளில் (A, B, C or D) அதற்குண்டான இடத்தில் நீலம் (அல்லது) கருப்பு நிற பால் பாயின்ட் பேனாவை கொண்டு பட்டை தீட்டவும். வினாத்தாளின் வகையை பட்டை தீட்டாவிட்டால், அந்த விடைத்தாள் மதிப்பிடப்படமாட்டாது.
7. ஒரு வினாவிற்கு ஒரு விடையை மட்டுமே தேர்வு செய்து பட்டை தீட்டவும்.
8. தவறாகவோ, ஒரு வட்டத்திற்கு மேல்பட்டை தீட்டினாலோ, அடித்தல் திருத்தங்கள் செய்தாலோ அந்த விடைக்கு மதிப்பெண் கிடையாது.
9. வினாத்தாளில் ஏதேனும் அச்சுப் பிழையோ, பக்கங்கள் சரியாக இல்லாவிட்டாலோ, மேற்பார்வையாளரிடம் முறையிட்டு எழுத்து தேர்வு தொடங்குவதற்கு முன் சரியான மற்றுமொரு வினாத்தாளைப் பெற்று கொள்ளுமாறு அறிவுறுத்தப்படுகிறது.
10. பாடப்பகுதி (ஆங்கிலம் மற்றும் தமிழ்) வினாக்களை தவிர்த்து அனைத்து வினாக்களும் இரண்டு மொழிகளிலும் கொடுக்கப்பட்டுள்ளன.

**PART – A : General Knowledge**

1. Where the Fascism Raised in the European country ?

- (A) Denmark (B) Germany (C) France (D) Italy

எந்த ஐரோப்பிய நாட்டில் பாசிச கொள்கை தோன்றியது ?

- (A) டென்மார்க் (B) ஜெர்மனி (C) பிரான்ஸ் (D) இத்தாலி

2. Match the following :

- 1) Holkar a) Baroda
2) Gaikwad b) Pune
3) Shinde c) Indore
4) Peshwa d) Gwalior



(A) 1-c, 2-b, 3-d, 4-a

(B) 1-c, 2-a, 3-b, 4-d

(C) 1-c, 2-b, 3-a, 4-d

(D) 1-c, 2-a, 3-d, 4-b

பொருத்துக :

- 1) ஹோல்கார் a) பரோடா
2) கெய்க்வாட் b) புனே
3) சிந்தி c) இந்தூர்
4) பேஷ்வா d) குவாலியர்

(A) 1-c, 2-b, 3-d, 4-a

(B) 1-c, 2-a, 3-b, 4-d

(C) 1-c, 2-b, 3-a, 4-d

(D) 1-c, 2-a, 3-d, 4-b

3. Who built the Buland Darwaza at Fatehpur Sikri ?

- (A) Shah Jahan (B) Akbar (C) Jahangir (D) Aurangzeb

பதே பூர்சிக்ரியில் புலந் தர்வாசாவைக் கட்டியவர் யார் ?

- (A) ஷாஜகான் (B) அக்பர் (C) ஜஹாங்கீர் (D) அவுரங்கசீப்

4. Coimbatore district is surrounded by

- (A) The Nilgiris, Theni, Erode and Dindigul
(B) The Nilgiris, Tiruppur, Dindigul and Theni
(C) The Nilgiris, Karur, Theni and Tiruppur
(D) The Nilgiris, Erode, Tiruppur and Kerala

கோயம்புத்தூர் மாவட்டம் _____ ஆல் சூழப்பட்டுள்ளது.

- (A) நீலகிரி, தேனி, ஈரோடு மற்றும் திண்டுக்கல்
(B) நீலகிரி, திருப்பூர், திண்டுக்கல் மற்றும் தேனி
(C) நீலகிரி, கரூர், தேனி மற்றும் திருப்பூர்
(D) நீலகிரி, ஈரோடு, திருப்பூர் மற்றும் கேரளா



5. One among the given districts has border with Karnataka State.

- (A) Erode (B) Coimbatore (C) Thiruvallur (D) Thirunelveli

கொடுக்கப்பட்டுள்ள மாவட்டங்களில் ஒன்று கர்நாடகா மாநிலத்துடன் எல்லையைக் கொண்டுள்ளது.

- (A) ஈரோடு (B) கோயம்புத்தூர் (C) திருவள்ளூர் (D) திருநெல்வேலி



10. What is the number of all India Women Helpline ?

- (A) 1098 (B) 1030 (C) 181 (D) 100

அனைத்து இந்திய 'பெண்கள் உதவி எண்' என்ன ?

- (A) 1098 (B) 1030 (C) 181 (D) 100

11. Match the following :

- a) Hydrogenated fats 1) Carcinogenic
b) Nitrites 2) Allergy
c) Sweeteners 3) Cardiovascular disease
d) Sulfites 4) Dental Cavities

- (A) 4, 3, 1, 2 (B) 3, 1, 4, 2 (C) 2, 4, 1, 3 (D) 3, 2, 4, 1

பொருத்துக :

- a) நீரகவூட்ட கொழுப்பு 1) புற்றுக்கட்டிகள் ஏற்பட காரணிகள்
b) நைட்ரைட்ஸ் 2) ஒவ்வாமை
c) இனிப்பூட்டிகள் 3) இருதய நோய்
d) சல்ஃபைட் 4) பற்சொத்தை

- (A) 4, 3, 1, 2 (B) 3, 1, 4, 2 (C) 2, 4, 1, 3 (D) 3, 2, 4, 1

12. Select the food source of Vitamin – A from the given foods.

- (A) Whole grain (B) Gooseberry (C) Fish oil (D) Apple

தரப்பட்டுள்ள உணவுகளிலிருந்து வைட்டமின் – A நிறைந்த உணவினைத் தேர்ந்தெடு.

- (A) முழு தானியம் (B) நெல்லிக்காய்
(C) மீன் எண்ணெய் (D) ஆப்பிள்

13. Which is a correct match ?

- (A) Hogenakkal falls – Krishnagiri (B) Monkey falls – Coimbatore
(C) Courtallam falls – Tuticorin (D) Suruli falls – Madurai

சரியாக பொருந்தியதை தேர்ந்தெடு.

- (A) ஒகேனக்கல் நீர்வீழ்ச்சி – கிருஷ்ணகிரி (B) குரங்கு அருவி – கோயம்புத்தூர்
(C) குற்றாலம் அருவி – தூத்துக்குடி (D) சுருளி அருவி – மதுரை

14. In which State Ajanta caves are situated ?

- (A) Madhya Pradesh (B) Gujarat (C) Karnataka (D) Maharashtra

அஜந்தா குகைகள் அமைந்துள்ள மாநிலம் எது ?

- (A) மத்திய பிரதேசம் (B) குஜராத்
(C) கர்நாடகம் (D) மகாராஷ்டிரா



15. (i) Hiuen-Tsang hailed as the prince of pilgrims, visited India during the reign of Harsha.
(ii) Born in 621 CE he become a Buddhist monk at the age of Twenty.
(iii) His Si-yu-ki provides detailed information about the war system.

(A) (i) and (iii) correct (ii) wrong (B) (i) and (ii) correct (iii) wrong
(C) (i) correct (ii) and (iii) wrong (D) (i) wrong (ii) and (iii) correct

(i) பயணங்களின் இளவரசர் என்றழைக்கப்படும் யுவான் சுவாங் ஹர்ஷர் அவைக்கு வருகை புரிந்தார்.

(ii) பொ. ஆ. 621 ல் பிறந்த யுவான் சுவாங் தம் 20ம் வயதில் துறவு பூண்டார்.

(iii) இவரது நூலான சி.யு.கி. ஹர்ஷரின் போர் முறை பற்றி கூறுகிறது.

(A) (i) மற்றும் (iii) சரி (ii) தவறு (B) (i) மற்றும் (ii) சரி (iii) தவறு
(C) (i) சரி (ii) மற்றும் (iii) தவறு (D) (i) தவறு (ii) மற்றும் (iii) சரி

16. The Chief Justice and other Judges of the Supreme Court are appointed by

(A) The President (B) The Attorney General
(C) The Governor (D) The Prime Minister

உச்ச நீதிமன்ற தலைமை நீதிபதி மற்றும் மற்ற நீதிபதிகளை நியமிப்பவர்

(A) குடியரசுத் தலைவர் (B) இந்திய அரசின் தலைமை வழக்குரைஞர்
(C) ஆளுநர் (D) பிரதம அமைச்சர்

17. When was the Right to Property Act deleted from the list of Fundamental Rights ?

(A) 1970 (B) 1978 (C) 1980 (D) 1988

அடிப்படை உரிமை பட்டியலிலிருந்து சொத்துரிமை நீக்கப்பட்ட ஆண்டு

(A) 1970 (B) 1978 (C) 1980 (D) 1988

18. Secularism means

(A) State is against to all religions
(B) State accepts only one religion
(C) An attitude of tolerance and peaceful co-existence on the part of citizen belonging any religion
(D) None of these

சமயசார்பின்மை என்பது

(A) அரசு அனைத்து சமயத்திற்கும் எதிரானது

(B) அரசு ஒரே ஒரு சமயத்தை மட்டும் ஏற்றுக்கொள்கிறது

(C) எந்த சமயத்தை சார்ந்த குடிமகனும் சகிப்புத்தன்மையுடன் அமைதியாக இணக்கமாக வாழ்தல்

(D) இவற்றுள் எதுவுமில்லை

19. Which of the following country is not the member of SAARC ?

(A) China (B) Sri Lanka (C) Pakistan (D) Bhutan

கீழ்க்கண்டவற்றுள் எந்த நாடு (SAARC) உறுப்பினர் நாடு அல்ல ?

(A) சீனா (B) ஸ்ரீலங்கா (C) பாகிஸ்தான் (D) பூடான்



20. In India, coins are issued by

- (A) Government of India (B) RBI
(C) State Governments (D) SBI

இந்தியாவில் நாணயங்கள் _____ ஆல் வெளியிடப்படுகிறது.

- (A) இந்திய அரசு (B) இந்திய ரிசர்வ் வங்கி
(C) மாநில அரசு (D) ஸ்டேட் பேங்க் ஆப் இந்தியா

21. Barometer was invented by

- (A) Archimedes (B) Newton (C) Torricelli (D) Tesla

பாதரசமானியைக் கண்டுபிடித்தவர்

- (A) ஆர்க்கிமிடீஸ் (B) நியூட்டன் (C) டாரிசெல்லி (D) டெஸ்லா

22. We can hold objects in our hand due to

- (A) Surface tension (B) Stress
(C) Friction (D) Co-efficient of elasticity

எந்தவொரு பொருளையும் நம்மால் பிடிக்க முடிவதற்கான காரணம்

- (A) பரப்பு இழுவிசை (B) தகைவு
(C) உராய்வு (D) மீட்சிக் குணகம்

23. Choose the correct pair.

- (A) Gypsum – Dindigul (B) Titanium minerals – Kanyakumari
(C) Tungsten – Salem (D) Chromite – Tiruchi

சரியான இணையை தேர்ந்தெடு.

- (A) ஜிப்சம் – திண்டுக்கல் (B) டைட்டேனியம் கனிமங்கள் – கன்னியாகுமரி
(C) டங்க்ஸ்டன் – சேலம் (D) குரோமைட் – திருச்சி

24. _____ is a process of removing impurities from water to make it potable.

- (A) Reverse osmosis (B) Boiling
(C) Distillation (D) Filtration

_____ என்ற முறையில் நீரில் உள்ள மாசுக்கள் நீக்கப்பட்டு, நீர் சுத்திகரிக்கப்படுகிறது.

- (A) எதிர் சவ்வூடு பரவல் (B) கொதிக்க வைத்தல்
(C) காய்ச்சி வடித்தல் (D) வடிகட்டுதல்

25. The largest digestive gland in human digestive system is

- (A) Liver (B) Kidney (C) Pancreas (D) Spleen

மனித உடலில் காணப்படும் மிகப்பெரிய செரிமானப் சுரப்பி

- (A) கல்லீரல் (B) சிறுநீரகம் (C) கணையம் (D) மண்ணீரல்

26. Which river separates the Coimbatore Plateau from the Mysore Plateau ?

- (A) Noyyal river (B) Tamiraparani river
(C) Moyar (D) Palar

எந்த நதி மைசூர் பீடபூமியையும், கோயம்புத்தூர் பீடபூமியையும் பிரிக்கிறது ?

- (A) நொய்யல் ஆறு (B) தாமிரபரணி ஆறு
(C) மோயாறு (D) பாலாறு



27. **Assertion :** Cotton is considered as major raw material to India's Textile Industry.

Reason : In cotton production India stands second position after China.

- (A) "A" is wrong / "R" is correct
- (B) "A" and "R" both are wrong
- (C) "A" and "R" both are correct
- (D) "R" is wrong / "A" is correct



கூற்று : பருத்தி இந்தியாவின் மிகப்பெரிய ஜவுளி தொழிற்சாலைக்கு மூலப் பொருளாக உள்ளது.

காரணம் : பருத்தி உற்பத்தியில் சீனாவிற்கு அடுத்தப்படியாக இரண்டாவது இடத்தில் இந்தியா உள்ளது.

- (A) கூற்று தவறு/ காரணம் சரி
- (B) கூற்று மற்றும் காரணம் இரண்டும் தவறு
- (C) கூற்று மற்றும் காரணம் இரண்டும் சரி
- (D) காரணம் தவறு/கூற்று சரி

28. Which is a correct match ?

- a) Kaziranga National Park – Rajasthan
- b) Ranthambor National Park – Assam
- c) Sundarbans National Park – Rajasthan
- d) Gir National Park – Gujarat

- (A) a
- (B) b
- (C) c
- (D) d

கீழ்க்கண்டவைகளுள் எது சரியான பொருத்தம்.

- a) காசிரங்கா தேசிய பூங்கா – இராஜஸ்தான்
- b) ரந்தன்பூர் தேசிய பூங்கா – அஸ்ஸாம்
- c) சுந்தரவன தேசிய பூங்கா – இராஜஸ்தான்
- d) கிர் தேசிய பூங்கா – குஜராத்

- (A) a
- (B) b
- (C) c
- (D) d

29. Find out wrong pair.

- (A) Khajuraho – Hindu temple
- (B) Ashoka – Rock Edict
- (C) Din-i-Illahi – A book
- (D) Iqbal – Poet

தவறான இணையைத் தேர்வு செய்க.

- (A) கஜீராஹோ – இந்துக்கோவில்
- (B) அசோகர் – பாறைக்கல்வெட்டு
- (C) தீன் இலாகி – ஒரு புத்தகம்
- (D) இக்பால் – கவிஞர்

30. The Constitutional Head of the Union is

- (A) The President
- (B) The Chief Justice
- (C) The Prime Minister
- (D) Council of Ministers

நடுவன் அரசின் அரசியலமைப்பு தலைவர் _____ ஆவார்.

- (A) குடியரசுத் தலைவர்
- (B) தலைமை நீதிபதி
- (C) பிரதம அமைச்சர்
- (D) அமைச்சர்கள் குழு



PART – B : Psychology, Law and Police Related Subjects

31. Fill in the blank.

- Unless the artist had given his best _____
- (A) the portraits would not have been so natural
 - (B) the portraits would have been so natural
 - (C) the portraits will have been so natural
 - (D) the portraits might be so natural



32. Fill in the blank with the suitable question tag.

- I'm right _____ ?
- (A) am n't I
 - (B) am not I
 - (C) aren't I
 - (D) did I

33. Fill in the blank choosing the right option :

- A _____ is someone who suffers the effect of a crime.
- (A) culprit
 - (B) witness
 - (C) victim
 - (D) convict

34. Choose the appropriate meaning for the phrasal verb, "get rid of"

- (A) To include
- (B) To eliminate
- (C) To increase
- (D) To decrease

35. Choose the option which has logical relevance.

- I. The word 'Fall' indicates season.
 - II. It is an equivalent American word for 'Autumn'.
- (A) I is false II is true
 - (B) I and II are false
 - (C) I is true II is false
 - (D) I and II are true

36. Match the following :

- | | |
|------------------|--------------|
| a) WHO | I) Homophone |
| b) Syllabi | II) Acronym |
| c) Knight, night | III) Eponym |
| d) Boycott | IV) Plural |
- (A) II I IV III
 - (B) I IV II III
 - (C) II IV I III
 - (D) III II IV I

37. Fill up the blank with the correct word.

- The king died _____
- (A) hire less
 - (B) heir less
 - (C) hair less
 - (D) hare less

38. Choose the correct passive form of the following sentence.

- I will never forget this experience.
- (A) This experience will never been forgotten by me
 - (B) This experience will not be forgotten by me
 - (C) This experience will never be forgotten by me
 - (D) This experience will ever be forgotten by me





39. Fill in the blank with the suitable relative pronoun.

- This is Varun _____ father is an architect.
- (A) who
 - (B) which
 - (C) whom
 - (D) whose

40. Choose the sentence that has no error.

- (A) She did her homework every night
- (B) She has done her homework every night
- (C) She does her homework every night
- (D) She does her homework last night



41. எவன் + ஒருவன்-என்பதனைச் சேர்த்தெழுதக் கிடைக்கும் சொல்
(A) எவனொருவன் (B) எவன் ஒருவன்
(C) எவன்னொருவன் (D) என்னொருவன்
42. 'காடெல்லாம்'-என்னும் சொல்லைப் பிரித்து எழுதக் கிடைப்பது
(A) காடு + டெல்லாம் (B) காடு + எல்லாம்
(C) கா + டெல்லாம் (D) கான் + எல்லாம்
43. இறந்த காலத்தை உணர்த்தும் தொடர் எது ? 
(A) அமுதன் நாளை வீட்டுக்கு வருவான்
(B) கண்மணி நேற்று பாடம் படித்தாள்
(C) மாடுகள் இன்று புல் மேய்கின்றன
(D) சிறுதேர்வுகள் நடைபெறுகின்றன
44. 'திருக்குற்றால நாதர் கோவில் வித்துவான்' என்று சிறப்புப் பட்டப் பெயர் பெற்றவர் திரிகூடராசப்பக்கவிராயர்-விடைக்கேற்ற வினா அமைக்க
(A) குத்தாலநாதர் கோவில் வித்துவான் என்று சிறப்புப் பட்டப்பெயர் பெற்றவர் யார் ?
(B) 'திருக்குற்றால நாதர் கோவில் வித்துவான்' என்று சிறப்புப் பட்டப்பெயர் பெற்றவர் யார் ?
(C) திருக்குற்றால நாதன் கோவில் வித்துவான் என்று பெயர் பெற்றவர் யார் ?
(D) திருக்குற்றால நாதன் கோவில் மகாவித்துவான் என்று பெயர் பெற்றவர் யார் ?
45. 'அழுவம்' என்ற சொல்லின் பொருளைத் தேர்ந்தெடு
(A) கடல் (B) அழகு (C) வானம் (D) அழுத்தம்
46. ஐப்பசி அடமழையில் ஊருனி நிறைந்தது-தொடரில் உள்ள பிழைகளை நீக்கி எழுதுக.
(A) அய்ப்பசி அடைமழையில் ஊருனி நிறைந்தது.
(B) ஐப்பசி அடமழையில் ஊருனி நிறைந்தது.
(C) ஐப்பசி அடைமழையில் ஊருனி நிறைந்தது.
(D) ஐப்பசி அடைமழையில் ஊருனி நிறைந்தது.
47. பின்வருவனவற்றுள் புறப்பொருளில் இல்லாதது எது ?
(A) வீரம் (B) வெற்றி (C) கொடை (D) காதல்
48. 'அடேய் ! ஓடாதே! நிலநில்' -அடிக்கோடிட்ட சொல்லின் இலக்கணக் குறிப்பைக் கூறு
(A) இரட்டைக்கிளவி (B) உருவகம்
(C) அடுக்குத்தொடர் (D) உரிச்சொல் 
49. 'உண்மை' என்பதன் எதிர்ச்சொல்லைக் கூறு
(A) மெய்மை (B) பொய்மை (C) வாய்மை (D) நேர்மை
50. 'வலசை' என்னும் தமிழ்ச்சொல்லுக்குப் பொருந்தும் ஆங்கிலச் சொல்
(A) Weather (B) Climate (C) Migration (D) Continent



Answer the following 51-52 questions.

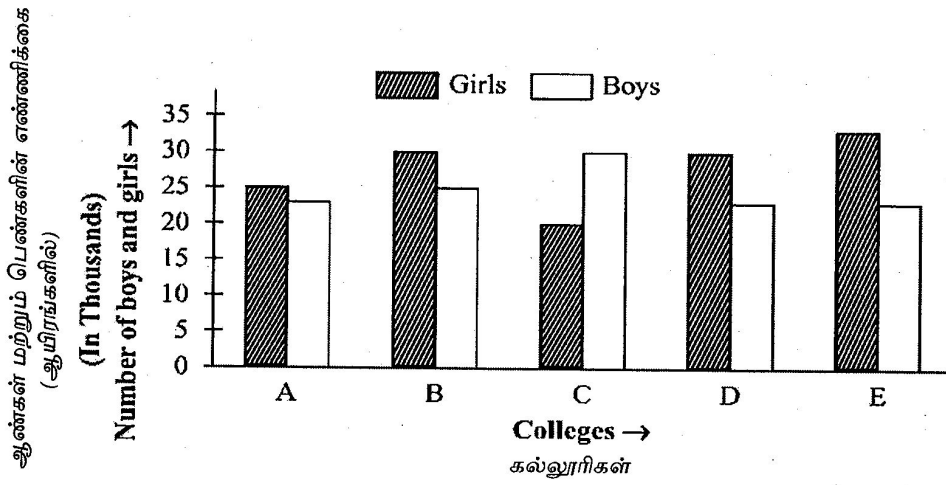
Study the following graph carefully and answer the questions given below.

கீழ்க்கண்ட வினாக்கள் 51-52 விடையளிக்கவும்.



கீழ உள்ள வரைபடத்தை பார்த்து கேள்விகளுக்கு பதில் எழுதுக.

Total no. of boys and girls in various colleges.



51. What is the average number of girls from all the colleges together ?

- (A) 25,000 (B) 27,500
(C) 25,500 (D) 27,000

அனைத்து கல்லூரிகளில் இருக்கும் பெண்களின் சராசரி எண்ணிக்கை என்ன ?

- (A) 25,000 (B) 27,500
(C) 25,500 (D) 27,000

52. What is the difference between the total number of girls and the total number of boys from all the colleges together ?

- (A) 13,500 (B) 14,000
(C) 15,500 (D) 16,000



அனைத்து கல்லூரிகளிலிருக்கும் மொத்த ஆண்களுக்கும் பெண்களுக்குமான எண்ணிக்கை வித்தியாசம் என்ன ?

- (A) 13,500 (B) 14,000
(C) 15,500 (D) 16,000



The following are 3 (53-55) questions based on the table given below :

Production of different types of scooters in a company.

கொடுக்கப்பட்டுள்ள அட்டவணையை படித்து கீழே உள்ள 3 (53-55) கேள்விகளுக்கு பதில் எழுதுக. நிறுவனத்தில் தயாரிக்கும் பல விதமான ஸ்கூட்டர்கள்.



Type of Scooters ஸ்கூட்டர் வகை

Year வருடம்	A	B	C	D	E
1992	180	60	84	100	76
1993	210	90	32	80	48
1994	135	30	44	95	85
1995	190	85	69	125	115
1996	260	95	120	80	120
1997	240	140	161	90	185

53. In which of the given years was the production of B-type scooters close to its average production over the given years ?

- (A) 1995 (B) 1994 (C) 1993 (D) 1992

நிறுவனத்தின் உற்பத்தியில் எந்த வருடம் B-வகை ஸ்கூட்டரின் உற்பத்தி அதன் சராசரி உற்பத்திக்கு அருகில் உள்ளது ?

- (A) 1995 (B) 1994 (C) 1993 (D) 1992

54. In which year was the production of D-type scooters maximum ?

- (A) 1993 (B) 1996 (C) 1995 (D) 1997

D-வகை ஸ்கூட்டரின் உற்பத்தி எந்த வருடத்தில் அதிகமாக உள்ளது ?

- (A) 1993 (B) 1996 (C) 1995 (D) 1997

55. What was the approximate percentage of production of A-type scooters in 1995 to its total production over the years ?

- (A) 20 (B) 15 (C) 23 (D) 40



கொடுக்கப்பட்ட ஆண்டுகளின் மொத்த உற்பத்தியில், 1995 ம் வருடத்தில் A-வகை ஸ்கூட்டரின் தோராயமான உற்பத்தி சதவீதம் என்ன ?

- (A) 20 (B) 15 (C) 23 (D) 40

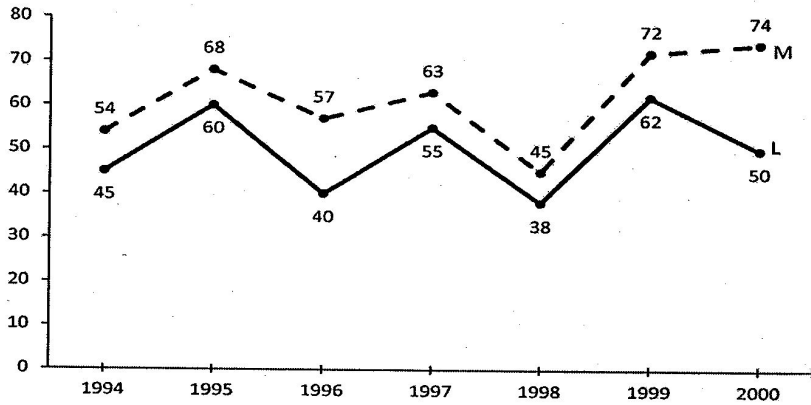


Answer the following 56-57 questions.

The following graph shows the percent profit earned by two companies (M and L) over the years 1994-2000.

கீழ்க்கண்ட வினாக்கள் 56-57 விடையளிக்கவும்.

கீழ்க்கண்ட கோடு வரைபடம் 1994-2000 ஆகிய ஆண்டுகளில் இரண்டு நிறுவனங்கள் (M மற்றும் L) ஈட்டிய லாப சதவிகிதத்தை காண்பிக்கின்றது.



56. In which year did company M earn its maximum profit ?

- (A) 1997 (B) 1998 (C) 1999 (D) 2000

எந்த ஆண்டில் M என்னும் நிறுவனம் அதிகபட்ச லாபத்தை ஈட்டியது ?

- (A) 1997 (B) 1998 (C) 1999 (D) 2000

57. In which year did company L make its minimum profit ?

- (A) 1997 (B) 1998 (C) 1999 (D) 2000

எந்த ஆண்டில் L என்னும் நிறுவனம் குறைந்தபட்ச லாபத்தை ஈட்டியது ?

- (A) 1997 (B) 1998 (C) 1999 (D) 2000

58. Which of the following diagrams indicates the best relation between Males, Fathers and Human beings ?

- (A) (B) (C) (D)

கீழே கொடுக்கப்பட்டுள்ள எந்த வரைபடம் ஆண்கள், தந்தைகள் மற்றும் மனிதர்களுக்கு இடையில் உள்ள தொடர்பை சிறப்பாக வெளிப்படுத்துகிறது

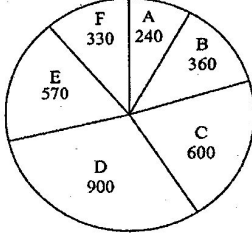
- (A) (B) (C) (D)





The following two (59-60) questions are based on the Pie Chart. Investment in different companies by Raghunadhan. (Rupees in Thousands)

கீழ்க்கண்ட இரண்டு (59-60) வினாக்களும் பகுப்புகளைக் கொண்ட வட்டத்தின் வரைபடத்தை சார்ந்தது. வெவ்வேறு நிறுவனங்களின் ரகுநாதனின் முதலீடு (ரூபாய்-ஆயிரங்களில்)



59. What percentage of the total investment is the investment in B ?

- (A) 12% (B) 24% (C) 36% (D) 48%

B யில் உள்ள முதலீடு, மொத்த முதலீட்டில் எத்தனை சதவீதம் ?

- (A) 12% (B) 24% (C) 36% (D) 48%

60. What percentage of the total investments are kept in company E ?

- (A) 19% (B) 23% (C) 31% (D) 57%

மொத்த முதலீட்டில், E நிறுவனத்தில் உள்ள முதலீட்டின் சதவீதம் என்ன ?

- (A) 19% (B) 23% (C) 31% (D) 57%

61. In the following series, replace the question mark (?) with suitable option.

17, 36, 74, 150, ?, 606

- (A) 250 (B) 303 (C) 300 (D) 302

பின்வரும் தொடரில், கேள்விக்குறியின் (?) இடத்தில் பொருத்தமான விடையை அளிக்கவும்.

17, 36, 74, 150, ?, 606

- (A) 250 (B) 303 (C) 300 (D) 302

62. Find the missing letter.

P	T	?
O	Q	S
M	N	R

- (A) I (B) L (C) O (D) U

விடுபட்ட எழுத்தை கண்டறிக.

P	T	?
O	Q	S
M	N	R

- (A) I (B) L (C) O (D) U





63. Given that,

- 1) A is the mother of B
- 2) C is the son of A
- 3) D is the brother of E
- 4) E is the daughter of B



The grandmother of D is

- (A) A (B) B (C) C (D) E

கொடுக்கப்பட்டது,

- 1) A என்பவர் B யின் தாயாவார்
- 2) C என்பவர் A வின் மகன்
- 3) D என்பவர் E யின் சகோதரன்
- 4) E என்பவர் B யின் மகள் எனில்,

D யின் பாட்டி யார் ?

- (A) A (B) B (C) C (D) E

64. If the day after tomorrow is sunday, what day was tomorrow's day before yesterday ?

- (A) Friday (B) Thursday (C) Monday (D) Tuesday

நாளைய மறுநாள் ஞாயிற்றுக்கிழமை என்றால், நாளைய நாளின் ஒரு நாள் முந்தைய நாள் என்ன ?

- (A) வெள்ளிக்கிழமை (B) வியாழக்கிழமை
(C) திங்கட்கிழமை (D) செவ்வாய்கிழமை

65. If 'UNCLE' is written as 9 4 6 7 2, 'SISTER' is written as 5 3 5 8 2 1, and 'SON' is written as 5 8 4, then what will be the code of 'NOISE' ?

- (A) 6 4 8 2 5 (B) 8 4 6 5 2 (C) 4 6 3 5 6 (D) 4 8 3 5 2

'UNCLE' என்னும் வார்த்தை 9 4 6 7 2 என்றும், 'SISTER' என்னும் வார்த்தை 5 3 5 8 2 1 என்றும், 'SON' என்னும் வார்த்தை 5 8 4 என்றும் எழுதப்பட்டால், 'NOISE' என்னும் வார்த்தை எவ்வாறு எழுதப்படும்

- (A) 6 4 8 2 5 (B) 8 4 6 5 2 (C) 4 6 3 5 6 (D) 4 8 3 5 2

66. Find the correct answer in the place of question mark (?)

Burglar : House :: Pirate : ?

- (A) Sea (B) Ship (C) Sailor (D) Crew

கேள்விக்குறியிட்ட இடத்தின் சரியான விடையைத் தேர்ந்தெடுக்கவும்.

திருடன் : வீடு :: கடற்கொள்ளையர் : ?

- (A) கடல் (B) கப்பல் (C) மாலுமி (D) குழுவினர்





67. Sequence the following in logical order :

- 1) Hexagon 2) Nonagon 3) Pentagon
 4) Heptagon 5) Octagon
 (A) 1, 4, 5, 2, 3 (B) 4, 3, 1, 2, 5 (C) 3, 1, 4, 5, 2 (D) 1, 3, 4, 5, 2

தர்க்கவாத வரிசையில்பின்வருவனவற்றை வரிசைபடுத்தவும்

- 1) ஹெக்ஸகன் 2) நானொகன் 3) பெண்டகன்
 4) ஹெப்டகன் 5) ஆக்டோகன்
 (A) 1, 4, 5, 2, 3 (B) 4, 3, 1, 2, 5 (C) 3, 1, 4, 5, 2 (D) 1, 3, 4, 5, 2



68. Looking at a woman sitting next to him, Amit said, "She is the sister of the husband of my wife". How is the woman related to Amit ?

- (A) Daughter (B) Sister (C) Wife (D) Daughter-in-law

தனது பக்கத்தில் அமர்ந்திருக்கும் ஒரு பெண்ணைப் பார்த்து அமித் கூறியது, "அவள் என் மனைவியின் கணவரின் சகோதரி". அப்பெண்மனி அமித்திற்கு என்ன சொந்தம் ?

- (A) மகள் (B) சகோதரி (C) மனைவி (D) மருமகள்

69. A is taller than B but not as tall as C. D is taller than E but not as tall as B. E is taller than F but not as tall as D. Who among them is the tallest ?

- (A) B (B) C (C) D (D) F

A என்பவர் B யை விட உயரம் ஆனால் C அளவு உயரம் இல்லை. D என்பவர் E யை விட உயரம் ஆனால் B அளவு உயரம் இல்லை. E என்பவர் F யை விட உயரம் ஆனால் D அளவு உயரம் இல்லை. இவர்களில் யார் இருப்பதிலேயே உயரமானவர் ?

- (A) B (B) C (C) D (D) F

70. Ram and Shyam are ranked 13th and 14th respectively in a class of 23. What are their ranks from the last, respectively ?

- (A) 10th, 11th (B) 11th, 12th (C) 11th, 10th (D) 13th, 12th

23 மாணவர்கள் உள்ள வகுப்பில், ராம் மற்றும் ஷயாம் முறையே, 13வது மற்றும் 14வது தரவரிசையில் உள்ளனர் முறையே, கடைசியிலிருந்து அவர்களின் தரவரிசை என்ன ?

- (A) 10வது, 11வது (B) 11வது, 12வது
 (C) 11வது, 10வது (D) 13வது, 12வது



71. Chaturviga bought a raincoat and saved ₹ 50 with discount of 20%. What was the original price of the raincoat ?

- (A) ₹ 250 (B) ₹ 500 (C) ₹ 125 (D) ₹ 300

சதுர்விஹா 20% தள்ளுபடியுடன் ஒரு ரெயின்கோட்டை வாங்கி ₹ 50 ஐ சேமித்தார் எனில் ரெயின்கோட்டின் அசல் விலை என்ன ?

- (A) ₹ 250 (B) ₹ 500 (C) ₹ 125 (D) ₹ 300



72. If x% of 600 is 450, then find the value of x.

- (A) 85 (B) 75 (C) 65 (D) 125

600 இன் x% என்பது 450 எனில், x இன் மதிப்பைக் காண்க.

- (A) 85 (B) 75 (C) 65 (D) 125



73. A Father is 6 times older than son. After 2 years father will be 4 times older than son. What is son's present age ?

- (A) 4 (B) 3 (C) 6 (D) 5

தற்போது தந்தையின் வயது மகனின் வயதைக் போல் 6 மடங்கு இரண்டு வருடங்களுக்குப் பிறகு தந்தையின் வயது மகனின் வயதைப்போல் 4 மடங்கு ஆக இருக்கும். மகனின் தற்போதைய வயது என்ன ?

- (A) 4 (B) 3 (C) 6 (D) 5

74. I : A rectangle is an equiangular parallelogram.

II : A square is an equilateral and equiangular parallelogram.

- (A) Only I is correct
(B) Only II is correct
(C) Both I and II are correct
(D) Both I and II are incorrect

I : ஒரு செவ்வகம் சமகோணமுள்ள இணைகரமாகும்.

II : ஒரு சதுரம் என்பது சமபக்கம் மற்றும் சமகோணமுள்ள இணைகரமாகும்.

- (A) I மட்டும் சரி (B) II மட்டும் சரி
(C) I மற்றும் II இரண்டும் சரி (D) I மற்றும் II இரண்டும் தவறு

75. Match the following :

i) $\frac{-71}{125}$ - 1) 2

ii) $0 + (-138) = -138 = (-138) + 0$ - 2) 3

iii) $4b^2c$ has degree - 3) Additive identity

iv) The zero of $4 - 2x$ - 4) Terminating decimal

- (A) 4, 3, 2, 1 (B) 1, 4, 3, 2 (C) 2, 4, 1, 3 (D) 3, 1, 2, 4

பொருத்துக :

i) $\frac{-71}{125}$ - 1) 2

ii) $0 + (-138) = -138 = (-138) + 0$ - 2) 3

iii) $4b^2c$ ன் படி - 3) கூட்டல் சமனி

iv) $4 - 2x$ ன் பூச்சியம் - 4) முடிவுறு தசம விரிவு

- (A) 4, 3, 2, 1 (B) 1, 4, 3, 2 (C) 2, 4, 1, 3 (D) 3, 1, 2, 4





76. Find the term that will come in place of the question mark (?)

ABCDEF, G ABCDEF, FG ABCDE, ?

(A) EFG ABCD

(B) G ABCDEF

(C) EFG ABCDE

(D) FG ABCDE



கேள்விக்குறியிட்ட இடத்தில் வரும் எழுத்துக்களின் தொடரைக் கண்டுபிடிக்கவும்.

ABCDEF, G ABCDEF, FG ABCDE, ?

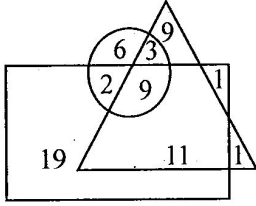
(A) EFG ABCD

(B) G ABCDEF

(C) EFG ABCDE

(D) FG ABCDE

77. In the diagram, the 'circle' represents 'ladies', the 'triangle' represents 'teachers', and the 'rectangle' represents 'unmarried persons'. The numbers given in the diagram represent the number of persons in that particular category.



How many married ladies are teachers ?

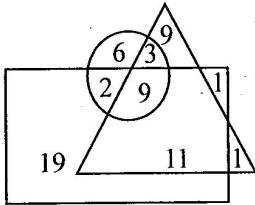
(A) 6

(B) 3

(C) 9

(D) 11

வரைபடத்தில் கொடுக்கப்பட்டுள்ள 'வட்டம்' 'பெண்களைக்' குறிக்கிறது, 'முக்கோணம்' 'ஆசிரியர்களைக்' குறிக்கிறது மற்றும் 'செவ்வகமானது' 'திருமணமாகாத நபர்களைக்' குறிக்கிறது. வரைபடத்தில் கொடுக்கப்பட்டுள்ள எண்கள் அந்த குறிப்பிட்ட பிரிவில் உள்ள நபர்களின் எண்ணிக்கையைக் குறிக்கும்



எத்தனை திருமணமான பெண்கள் ஆசிரியர்கள் ?

(A) 6

(B) 3

(C) 9

(D) 11



78. Arrange the words in meaningful sequence.

- 1) Elephant
- 2) Cat
- 3) Mosquito
- 4) Tiger
- 5) Whale



- (A) 1, 3, 5, 4, 2 (B) 2, 5, 1, 4, 3 (C) 3, 2, 4, 1, 5 (D) 5, 3, 1, 2, 4

வார்த்தைகளை பொருத்தமான வரிசையில் அமைக்கவும்.

- 1) யானை
- 2) பூனை
- 3) கொசு
- 4) புலி
- 5) திமிங்கலம்

- (A) 1, 3, 5, 4, 2 (B) 2, 5, 1, 4, 3 (C) 3, 2, 4, 1, 5 (D) 5, 3, 1, 2, 4

79. Which will come in the place of question mark (?) find from the options.

BIP, ELR, HOT, KRV, ?

- (A) NUX (B) NUY (C) MTY (D) MTX

கீழே கொடுக்கப்பட்டுள்ள விடைகளில் இருந்து, கேள்வி குறியிட்ட இடத்தின் பொருத்தமான விடையை தேர்வு செய்க.

BIP, ELR, HOT, KRV, ?

- (A) NUX (B) NUY (C) MTY (D) MTX

80. A man goes 5 km East, then he turns right and goes 4 km, then he turns to his left, and then goes 5 km. Which direction is he facing now ?

- (A) North (B) South (C) East (D) West

ஒரு மனிதன் கிழக்கே 5 கிமீ செல்கிறான். அவன் வலதுபுறம் திரும்பி 4 கிமீ செல்கிறான். பிறகு அவன் இடது பக்கம் திரும்பி 5 கிமீ செல்கிறான். அவன் இப்போது எந்த திசையை நோக்கி செல்கிறான் ?

- (A) வடக்கு (B) தெற்கு (C) கிழக்கு (D) மேற்கு

81. HCF of 18 and 27 is

- (A) 3 (B) 6 (C) 9 (D) 10

18 மற்றும் 27 இன் மீப்பெரு பொதுக் காரணி

- (A) 3 (B) 6 (C) 9 (D) 10



82. A 20 feet ladder leans against a wall at height of 16 feet from the ground. How far is the base of the ladder from the wall ?

- (A) 16 feet (B) 14 feet (C) 18 feet (D) 12 feet

20 அடி நீளமுள்ள ஏணி, தரையிலிருந்து 16 அடி உயரத்தில் சுவரினைத் தொடுமாறு சாய்த்து வைக்கப்பட்டுள்ளது எனில், சுவரிலிருந்து ஏணியின் அடிப்பகுதியானது எவ்வளவு தூரத்தில் உள்ளது ?

- (A) 16 அடி (B) 14 அடி (C) 18 அடி (D) 12 அடி



83. What happens to the area of the triangle, if the base is increased 2 times and the height is halved ?

- (A) Decreases to half (B) Remains the same
(C) Increases by two times (D) None



ஓர் முக்கோணத்தின் அடிப்பக்கத்தை இரண்டு மடங்காகவும், உயரத்தை பாதிக்கவும் மாற்றும் போது முக்கோணத்தின் பரப்பளவு எவ்வாறு மாறும் ?

- (A) பாதிக்க மாறும் (B) மாறாது
(C) இரண்டு மடங்காகும் (D) ஏதுமில்லை

84. Which of the following cannot be taken as probability of an event ?

- (A) 0 (B) 0.5 (C) 1 (D) -1

பின்வருவனவற்றுள் எது ஒரு நிகழ்ச்சியின் நிகழ்தகவாக இருக்க முடியாது ?

- (A) 0 (B) 0.5 (C) 1 (D) -1

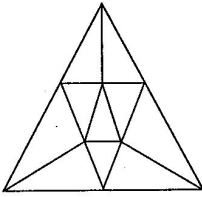
85. If three non-zero numbers a, b, c are in Geometric Progression then

- (A) $b = \frac{a+c}{2}$ (B) $b = ac$ (C) $b = \sqrt{ac}$ (D) $b = \frac{a-c}{2}$

a, b, c என்ற மூன்று பூச்சியமற்ற எண்கள் பெருக்குத் தொடர் வரிசையில் இருந்தால்

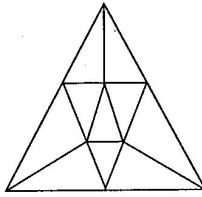
- (A) $b = \frac{a+c}{2}$ (B) $b = ac$ (C) $b = \sqrt{ac}$ (D) $b = \frac{a-c}{2}$

86. Find the number of triangles in the following figures.



- (A) 12 (B) 13 (C) 14 (D) 15

முக்கோணத்தின் எண்ணிக்கையை பின்வரும் படத்தில் கண்டு எழுதுக.



- (A) 12 (B) 13 (C) 14 (D) 15





87. There are 23 steps to reach a temple. On descending from the temple Ram takes two steps in the same time. Shyam ascends one step. If they start to work simultaneously at which step will they meet each other ?

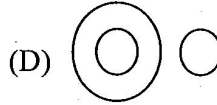
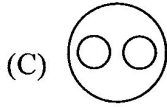
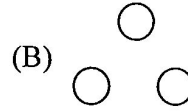
- (A) 8th (B) 9th (C) 10th (D) 11th



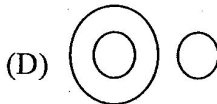
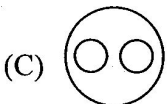
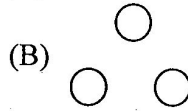

ஒரு கோவிலை அடைய 23 படிகள் உள்ளன. கோவிலில் இருந்து இறங்கும் போது ராம் ஒரே நேரத்தில் இரண்டு படி எடுத்து வைக்கிறார். ஷ்யாம் ஒரு படி ஏறினான். அவர்கள் ஒரே நேரத்தில் வேலை செய்யத் தொடங்கினால். எந்த படியில் அவர்கள் ஒருவரையொருவர் சந்திப்பார்கள்.

- (A) 8வது (B) 9வது (C) 10வது (D) 11வது

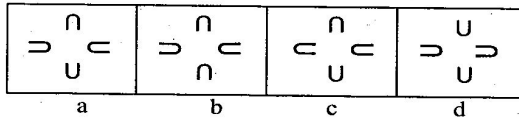
88. Which one of the following diagram best depicts the relationship between tables, chairs and furniture ?



பின்வரும் வரைப்படங்களில் எது மேஜைகள், நாற்காலிகள், தளவாடங்கள் ஆகியவற்றின் உறவை சிறப்பாக சித்தரிக்கிறது ?



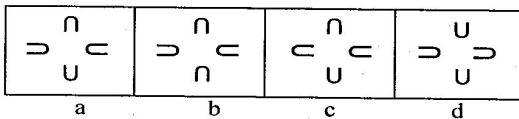
89. Identify the odd figure.



- (A) a (B) b (C) c (D) d



இதில் சேராத உருவத்தைக் கண்டுபிடித்து விடை தருக.



- (A) a (B) b (C) c (D) d



90. Rakesh is on 9th position from upwards and on 38th position from downwards in a class. How many students are there in the class ?

- (A) 47 (B) 45 (C) 46 (D) 48

ஒரு வகுப்பில் ராகேஷ் என்பவர் மேலிருந்து 9 வது இடத்திலும் மற்றும் கீழிருந்து 38 வது இடத்திலும் இருக்கிறார். மொத்தம் எத்தனை மாணவர்கள் அந்த வகுப்பில் உள்ளனர் ?

- (A) 47 (B) 45 (C) 46 (D) 48

91. Section 128 of Indian Penal Code deals with which one of the following ?

- (A) Aiding escape of or rescuing or harbouring such prisoner
(B) Public servant voluntarily allowing prisoner of state or war to escape
(C) Public servant negligently suffering such prisoner to escape
(D) None of the above



இ.த.ச. பிரிவு 128 கீழ்க்கண்டவற்றினுள் எவற்றைப் பற்றிக் கூறுகிறது ?

- (A) அத்தகைய கைதி தப்பிச் செல்ல உதவுதல், அவரை மீட்டல், அல்லது அவருக்குப் புகலளித்தல்
(B) அரசுக் கைதியை அல்லது போர் கைதியைத் தப்பிச் செல்ல தன்னிச்சையாக அனுமதிக்கின்ற பொது ஊழியர்
(C) அத்தகைய கைதியைத் தப்பிச் செல்ல அசட்டையாக விட்டு விடும் பொது ஊழியர்
(D) மேற்கண்ட எதுவுமில்லை

92. 'Harbouring of offender is an offence' is dealt under which Section of IPC ?

- (A) 212 (B) 312
(C) 222 (D) None of the above

'குற்றம் செய்தவருக்கு புகலிடம் அளித்தல் குற்றமாகும்' என இ.த.ச. வின் எந்தப் பிரிவு வரையறுக்கிறது ?

- (A) 212 (B) 312
(C) 222 (D) மேலே குறிப்பிட்ட எதுவும் இல்லை

93. Which Section of Indian Penal Code provides for counterfeiting currency notes ?

- (A) 498 A (B) 489 A (C) 489 (D) 498

இந்திய தண்டனைச் சட்டத்தின் எந்தப் பிரிவில் நாணயத்தாள்களை கள்ளத்தனமாகத் தயாரித்தல் பற்றிக் கூறப்பட்டுள்ளது ?

- (A) 498 A (B) 489 A (C) 489 (D) 498



94. Which Section of IPC provides for a hangman who hangs the prisoners as per the orders of the court is exempted from criminal liability ?

- (A) 86 (B) 88 (C) 80 (D) 78

இ.த.ச. வின் எந்தப் பிரிவு, நீதிமன்றத்தின் ஆணையை நிறைவேற்றும் பொருட்டு குற்றவாளியை தூக்கில் இடுபவருக்கு குற்ற தண்டனையிலிருந்து விலக்கு அளித்தலைப் பற்றிக் கூறுகிறது ?

- (A) 86 (B) 88 (C) 80 (D) 78



95. The word 'injury' denotes harm caused to any person in

- (A) Body and mind (B) Reputation
(C) Property (D) All of the above

'பாதிப்பு' என்ற சொல் எவருக்கேனும் உண்டாக்கப்படும் தீங்கில் எவற்றினைக் குறிக்கும்.

- (A) உடல் மற்றும் மனது (B) நற்பெயர்
(C) சொத்து (D) மேற்கண்ட அனைத்தும்



96. An accused died while kept in lock-up of a Police Station. Under which Section of Cr.P.C., Magistrate empowers to hold enquiry ?

- (A) 175 (B) 172 (C) 173 (D) 176

காவல் நிலையத்தில், குற்றம் சுமத்தப்பட்டவர் காவலிருப்பில் இருக்கும்போது இறந்துபோனால் 'நடுவர்' விசாரணை மேற்கொள்ள அதிகாரம் அளிக்கும் கு.வி.ந. சட்ட பிரிவு எது ?

- (A) 175 (B) 172 (C) 173 (D) 176

97. Direction for grant of bail to person apprehending arrest is given under Section _____ of Cr.P.C.

- (A) 438 (B) 439 (C) 440 (D) 441

கைது செய்யப்படக்கூடும் எனும் நிலையை எதிர்நோக்கியிருப்பவருக்கு பிணையில் விடுவது தொடர்பாக கு.வி.ந.ச. பிரிவு _____ ல் கூறப்பட்டு உள்ளது.

- (A) 438 (B) 439 (C) 440 (D) 441

98. Which Section of the Code of Criminal Procedure deals with Serving Summons on Government Servants ?

- (A) 63 (B) 66 (C) 67 (D) 68

குற்றவியல் விசாரணை நடைமுறைச் சட்டத்தின் எந்த பிரிவு அரசு ஊழியர்களுக்கு அழைப்பாணை சார்பு செய்வது தொடர்பாக குறிப்பிடுகிறது ?

- (A) 63 (B) 66 (C) 67 (D) 68

99. Under which Section of Cr.P.C., a Magistrate may dispense with personal attendance of accused while issuing summons and permit him to appear by his pleader ?

- (A) 205 (B) 206 (C) 207 (D) 208

குற்றவியல் விசாரணை முறைச் சட்டத்தின் எந்த பிரிவின் படி ஒரு நடுவரானவர் அழைப்பாணை பிறப்பிக்கும் பொழுது குற்றம் சாட்டப்பெற்ற வரை முன்னிலையாவதில் இருந்து விலக்களித்து, அவருக்காக அவரது வழக்கறிஞரை முன்னிலையாக அனுமதிக்கலாம் ?

- (A) 205 (B) 206 (C) 207 (D) 208





100. "Right to Appeal" by victim provided under Section _____ of Cr.P.C.

- (A) 368 (B) 370 (C) 371 (D) 372

பாதிக்கப்பட்டவர் மேல் முறையீடு செய்யக்கூடிய உரிமை வழங்கப்பட்டு உள்ள கு.வி.ந.ச. பிரிவு

- (A) 368 (B) 370 (C) 371 (D) 372



101. In which year the New Pension Scheme was implemented in Tamil Nadu ?

- (A) 01.04.2004 (B) 01.04.2003 (C) 01.04.2005 (D) 01.04.2000

தமிழகத்தில் புதிய ஓய்வூதிய திட்டம் எந்த ஆண்டு முதல் அமலுக்கு வந்தது ?

- (A) 01.04.2004 (B) 01.04.2003 (C) 01.04.2005 (D) 01.04.2000

102. How many Police Commissionerates are there in Tamil Nadu ?

- (A) 7 (B) 8 (C) 9 (D) 10

தமிழகத்தில் உள்ள காவல் ஆணையகரங்களின் மொத்த எண்ணிக்கை என்ன ?

- (A) 7 (B) 8 (C) 9 (D) 10

103. Which is the Police Medal awarded for outstanding work in curtailing illicit liquor in Tamil Nadu ?

- (A) TN Chief Minister's Police Medal (B) Gandhi Adigal Police Medal
(C) Anna Police Medal (D) Kamarajan Police Medal

தமிழகத்தில் கள்ளச் சாராயத்தை ஒழிப்பதில் கண்ணிகரற்ற பணிக்காக வழங்கப்படும் காவல் பதக்கம் எது ?

- (A) தமிழ்நாடு முதலமைச்சரின் காவல் பதக்கம்
(B) காந்தியடிகள் காவல் பதக்கம்
(C) அண்ணா காவல் பதக்கம்
(D) காமராஜர் காவல் பதக்கம்

104. TN CM's Police Medal is awarded to Police Personnel who has completed not less than _____ years.

- (A) 5 years of service completion (B) 10 years of service completion
(C) 15 years of service completion (D) 20 years of service completion

தமிழக முதல்வரின் காவல் பதக்கம் பெற எத்தனை ஆண்டுகள் பணி நிறைவு செய்திருத்தல் வேண்டும் ?

- (A) 5 ஆண்டுகள் பணி நிறைவு (B) 10 ஆண்டுகள் பணி நிறைவு
(C) 15 ஆண்டுகள் பணி நிறைவு (D) 20 ஆண்டுகள் பணி நிறைவு



105. How many years service required for conversion of AR/TSP Sub-Inspectors transfer to local Sub-Inspector ?

- (A) Completion of 2½ years service (B) Completion of 5 years service
(C) Completion of 3½ years service (D) Completion of 4 years service

எத்தனை ஆண்டுகள் ஆயுதபடை மற்றும் தமிழ்நாடு சிறப்பு காவல் படையில் பணிபுரிந்தால் உதவி ஆய்வாளர் தாலுக்கா உதவி ஆய்வாளராக பணி மாற்றம் பெறலாம் ?

- (A) இரண்டரை ஆண்டுகள் பணிநிறைவு செய்திருத்தல்
(B) ஐந்தாண்டுகள் பணி நிறைவு செய்திருத்தல்
(C) மூன்றரை ஆண்டுகள் பணி நிறைவு செய்திருத்தல்
(D) நான்காண்டுகள் பணி நிறைவு செய்திருத்தல்



106. "Security for good behaviour from suspected persons" is dealt under Section _____ of Cr.P.C.

- (A) 108 (B) 109 (C) 110 (D) 111

"சந்தேகத்திற்கிடமான நபர்களிடம் இருந்து நன்னடத்தைக்கான பிணையம் பெறுவது" குறித்து கு.வி.ந.ச. _____ பிரிவில் கூறப்பட்டுள்ளது.

- (A) 108 (B) 109 (C) 110 (D) 111



107. Which Section of Cr.P.C. enables a Police Officer to send report to District Magistrate for removal of nuisance in public place ?

- (A) 129 (B) 130 (C) 131 (D) 133

குற்றவியல் விசாரணை நடைமுறைச் சட்டத்தின் எந்த பிரிவின் படி காவலதிகாரி "மாவட்ட நிருவாக நடுவருக்கு" தொல்லையை நீக்குவதற்காக அறிக்கை அனுப்ப இயலும்

- (A) 129 (B) 130 (C) 131 (D) 133

108. Section 165 of Cr.P.C. deals with which of the following ?

- (A) Arrest (B) Search by Police Officer
(C) Examination of witnesses (D) Magistrates

குற்றவியல் விசாரணை நடைமுறைச் சட்டம் பிரிவு 165 ஆனது கீழ்க்காணும் எவற்றைப் பற்றி குறிப்பிடுகிறது ?

- (A) கைது
(B) காவலதிகாரி சோதனையிடுவது குறித்து
(C) சாட்சிகளை விசாரிப்பது குறித்து
(D) நடுவர்கள்

109. If a person aggrieved by a refusal of an officer incharge of a Police Station to record the information given by him, may send the same to District Superintendent of Police. Under Section _____ of the Code of Criminal Procedure.

- (A) 154 (1) (B) 152 (2)
(C) 154 (3) (D) 155



ஒரு நபர் வழங்கிய தகவலை பதிவு செய்திட காவல் நிலைய பொறுப்பு அலுவலர் மறுத்தால், அந்த தகவலை மாவட்ட காவல் கண்காணிப்பாளருக்கு குற்றவியல் விசாரணை நடைமுறைச் சட்டத்தின் _____ பிரிவின் கீழ் அனுப்பலாம்.

- (A) 154 (1) (B) 152 (2)
(C) 154 (3) (D) 155



110. Medical examination of a rape victim should be done

- (A) Within 24 hours from the time of occurrence
 (B) Within 24 hours from the time of registering F.I.R.
 (C) Within 24 hours from the time of receiving the information
 (D) Within 24 hours from the time of arrest of accused



வண்புணர்ச்சி வழக்குகளில் பாதிக்கப்பட்டவரை மருத்துவ பரிசோதனைக்கு உட்படுத்துவது அதனை

- (A) சம்பவம் நடைபெற்ற நேரத்தில் இருந்து 24 மணி நேரத்திற்குள் முடிக்கப்பட வேண்டும்
 (B) முதல் தகவல் அறிக்கை பதியப்பட்டதில் இருந்து 24 மணி நேரத்திற்குள் முடிக்கப்பட வேண்டும்
 (C) தகவல் பெறப்பட்ட நேரத்தில் இருந்து 24 மணி நேரத்திற்குள் முடிக்கப்பட வேண்டும்
 (D) குற்றம் சுமத்தப்பட்டவர் கைது செய்யப்பட்டதில் இருந்து 24 மணி நேரத்திற்குள் முடிக்கப்பட வேண்டும்

111. Which PSO deals with the use of handcuffs ?

- (A) PSO 639 (B) PSO 640 (C) PSO 641 (D) PSO 642

கைவிலங்குகள் பயன்படுத்துதல் பற்றி எந்த காவல் நிலை ஆணை விளக்குகிறது ?

- (A) கா.நி.ஆ. 639 (B) கா.நி.ஆ. 640 (C) கா.நி.ஆ. 641 (D) கா.நி.ஆ. 642

112. TN PSO _____ deals with remand of accused to police custody.

- (A) PSO 642 (B) PSO 643 (C) PSO 644 (D) PSO 645

எதிரிகளைக் காவல் துறையினரின் காவலில் வைத்தல் சம்பந்தமாக தமிழ்நாடு காவல் நிலை ஆணை எண் _____ விவரிக்கிறது.

- (A) கா.நி.ஆ. 642 (B) கா.நி.ஆ. 643 (C) கா.நி.ஆ. 644 (D) கா.நி.ஆ. 645

113. Match the following :

- | | |
|---------------|----------------------------------|
| a) Part - I | i) Crime charts |
| b) Part - II | ii) History sheets |
| c) Part - III | iii) General conviction register |
| d) Part - IV | iv) Work of Habitual Criminals |

- (A) a-iv, b-ii, c-i, d-iii (B) a-iii, b-i, c-iv, d-ii
 (C) a-iv, b-i, c-iii, d-ii (D) a-i, b-iii, c-ii, d-iv

கீழ்க்கண்டவற்றை பொருத்துக.

- | | |
|----------------|--|
| a) பகுதி - I | i) குற்ற விளக்கப் படங்கள் |
| b) பகுதி - II | ii) வரலாற்றுக் குறிப்புகள் |
| c) பகுதி - III | iii) தண்டனைப் பொதுப் பதிவேடு |
| d) பகுதி - IV | iv) வழக்கமான குற்றவாளிகளால் நடைபெற்றவை |



- (A) a-iv, b-ii, c-i, d-iii (B) a-iii, b-i, c-iv, d-ii
 (C) a-iv, b-i, c-iii, d-ii (D) a-i, b-iii, c-ii, d-iv



114. Match the following :

- | | |
|--|----------------------------|
| a) Inspector of Police (Law and Order) | i) PSO 185 |
| b) Duties of Inspector (Crime) | ii) PSO 188 |
| c) Reserve Inspector | iii) PSO 181 |
| d) Diaries | iv) PSO 179 |
| (A) a-iv, b-iii, c-ii, d-i | (B) a-iv, b-iii, c-i, d-ii |
| (C) a-iii, b-iv, c-ii, d-i | (D) a-i, b-ii, c-iv, d-iii |



கீழ்க்காணும் பொருள்களை அதற்கான கா.நி.ஆ. எண்களோடு சரியாக பொருத்துக.

- | | |
|---|----------------------------|
| a) காவல் ஆய்வாளர் (சட்டம் மற்றும் ஒழுங்கு) | i) கா.நி.ஆ.185 |
| b) காவல்துறை ஆய்வாளரின் கடமைகள் (குற்றப்பிரிவு) | ii) கா.நி.ஆ.188 |
| c) சேம்ப்படை ஆய்வாளர்கள் | iii) கா.நி.ஆ. 181 |
| d) நாட்குறிப்புகள் | iv) கா.நி.ஆ. 179 |
| (A) a-iv, b-iii, c-ii, d-i | (B) a-iv, b-iii, c-i, d-ii |
| (C) a-iii, b-iv, c-ii, d-i | (D) a-i, b-ii, c-iv, d-iii |

115. Match the following :

- | | |
|----------------------------|--|
| a) "Q" Branch | i) Anti-Narcotics Task Force |
| b) CCIW CID | ii) To monitor Naxalite activities |
| c) SBCID | iii) Misappropriation in Co-operative Societies |
| d) NIB CID | iv) Collection of intelligence and dissemination |
| (A) a-ii, b-iii, c-iv, d-i | (B) a-i, b-ii, c-iii, d-iv |
| (C) a-iii, b-iv, c-ii, d-i | (D) a-iv, b-i, c-iii, d-ii |

கீழ்க்கண்டவற்றை பொருத்துதல் :

- | | |
|----------------------------|---|
| a) "க்யூ" பிரிவு | i) போதைப்பொருள் தடுப்பு பிரிவு |
| b) CCIW CID | ii) நக்சலைட்டுக்களின் நடவடிக்கைகளை கண்காணித்தல் |
| c) SBCID | iii) வணிகவியல் குற்ற புலனாய்வுப் பிரிவு |
| d) NIB CID | iv) தகவல்களை சேகரித்தல் மற்றும் பகிர்ந்தளித்தல் |
| (A) a-ii, b-iii, c-iv, d-i | (B) a-i, b-ii, c-iii, d-iv |
| (C) a-iii, b-iv, c-ii, d-i | (D) a-iv, b-i, c-iii, d-ii |

116. According to Section 101 of IEA, a person is bound to prove the existence of any fact, it is said that the burden of proof lies on that person.

- (A) Totally true
 (B) Totally false
 (C) Provision is true - explanation is wrong
 (D) Provision is false - explanation is true



பிரிவு 101, இ.சா.ச-த்தின் படி ஒருவர் எந்தச் சங்கதியின் உண்மையையேனும் நிரூபிக்கக் கடமைப்பட்டிருக்கும் போது, நிரூபிக்கும் பொறுப்பு அவரைச் சார்ந்திருப்பதாகச் சொல்லப்படும்.

- (A) முழுவதும் சரி
 (B) முழுவதும் தவறு
 (C) சட்டப்பிரிவு சரி-விளக்கம் தவறு
 (D) சட்டப்பிரிவு தவறு -விளக்கம் சரி



117. _____ of IEA explains about “Refreshing memory”.

- (A) Section 157 (B) Section 159 (C) Section 133 (D) Section 140

இந்திய சாட்சிய சட்டத்தில் _____ “நினைவைப் புதுப்பித்தல்” பற்றி கூறுகிறது.

- (A) பிரிவு 157 (B) பிரிவு 159 (C) பிரிவு 133 (D) பிரிவு 140

118. As per Section 5 of the Evidence Act, the evidence may be given on

- (A) Fact in issue (B) Relevant facts
(C) Both (A) and (B) (D) None of the above



இந்தியச் சாட்சியச் சட்டத்தில் பிரிவு 5 ன் படி, எவற்றிக்காக சாட்சியம் அளிக்கலாம்

- (A) பிரச்சனையிலுள்ள சங்கதி (B) தொடர்புடைய சங்கதி
(C) (A) மற்றும் (B) இரண்டும் (D) மேற்கண்ட ஏதும் இல்லை

119. Section 119 IEA says about

- (A) Child witnesses (B) A witness who is unable to speak
(C) Eye witnesses (D) Independent witnesses

பிரிவு 119, இந்திய சாட்சிய சட்டம் _____ பற்றி கூறுகிறது.

- (A) குழந்தை சாட்சியங்கள் (B) பேச முடியாத சாட்சியங்கள்
(C) நேரில் பார்த்த சாட்சியங்கள் (D) தனிப்பட்ட சாட்சியங்கள்

120. If a dying declaration to be admissible in court, it

- (A) Must be made before a Magistrate
(B) Must be made before a Police Officer without corroboration
(C) Must be made before a private person without corroboration
(D) None of the above

மரணவாக்குமூலம் நீதிமன்றத்தில் சாட்சியாக ஏற்றுக்கொள்ளப்பட யாரால் பதிவு செய்யப்பட வேண்டும் ?

- (A) நடுவர் முன்னிலையில்
(B) காவல்துறை அதிகாரி முன்னிலையில், உறுதி படுத்தும் சாட்சி இல்லாத நிலையில்
(C) தனி நபர் முன்னிலையில், உறுதிபடுத்தும் சாட்சி இல்லாத நிலையில்
(D) மேற்கண்ட ஏதும் இல்லை

121. The nodal agency for implementation of Crime and Criminal Tracking Network Systems (CCTNS) in Tamil Nadu is

- (A) Crime Branch Crime Investigation Department (CBCID)
(B) Special Branch Crime Investigation Department (SBCID)
(C) State Crime Records Bureau (SCRB)
(D) Special Investigation Department (SID)



தமிழகத்தில் குற்றம் மற்றும் குற்றவியல் கண்காணிப்பு ஒருங்கிணைப்பு அமைப்பினை (CCTNS) செயல்படுத்தும் முனையம் எது ?

- (A) குற்றப்பிரிவு குற்றப் புலனாய்வு துறை (B) தனிப்பிரிவு குற்றப் புலனாய்வு துறை
(C) மாநில குற்ற ஆவண காப்பகம் (D) சிறப்பு புலனாய்வு துறை



122. Which of the following is correct ?

Statement – I : Coastal Security Helpline number is 1093.

Statement – II : Coastal Security Helpline number is 1930.

- (A) Statement I is correct (B) Statement II is correct
(C) Both I and II are correct (D) None of the above

எது சரியாக உள்ளது ?

கூற்று – I : கடலோர பாதுகாப்பு உதவி எண் 1093.

கூற்று – II : கடலோர பாதுகாப்பு உதவி எண் 1930

- (A) கூற்று I சரி (B) கூற்று II சரி
(C) கூற்று I மற்றும் II சரி (D) எதுவும் சரி இல்லை



123. The amount of Ex gratia grant payable to the next kin of the Police Personnel who are killed under heroic or tragic circumstances in the course of duty is

- (A) Rs. 2,00,000 (B) Rs. 3,00,000 (C) Rs. 4,00,000 (D) Rs. 5,00,000

பணியில் போது வீரதீரச் செயல் புரிந்து மரணமடைந்த காவலரின் குடும்பத்திற்கு வழங்கப்படும் கருணைத் தொகை எவ்வளவு

- (A) ரூ. 2,00,000 (B) ரூ. 3,00,000 (C) ரூ. 4,00,000 (D) ரூ. 5,00,000

124. When Police Personnel has previous good record, how long a punishment may be deferred ?

- (A) From three to six months (B) From two to three months
(C) From four to five months (D) From three to nine months

முன்வரலாறு நன்றாக இருக்கும் காவல் அலுவலருக்கு எவ்வளவு காலம் வரை தண்டனையை தள்ளி வைக்கலாம் ?

- (A) மூன்று முதல் ஆறு மாதங்கள் வரை (B) இரண்டு முதல் மூன்று மாதங்கள் வரை
(C) நான்கு முதல் ஐந்து மாதங்கள் வரை (D) மூன்று முதல் ஒன்பது மாதங்கள் வரை

125. Who is the competent authority to pass detention order under Goondas Act in cities ?

- (A) The Commissioner of Police (B) Additional Commissioner of Police
(C) Joint Commissioner of Police (D) Deputy Commissioner of Police

மாநகரங்களில் குண்டர் தடுப்பு சட்டத்தின் கீழ் அடைப்பாணை வழங்குபவர் யார் ?

- (A) காவல் ஆணையர் (B) கூடுதல் காவல் ஆணையர்
(C) இணை காவல் ஆணையர் (D) துணை காவல் ஆணையர்



126. As per PSO 497, Tamil Nadu Forensic Science Laboratory is having several division except

- (A) Serology (B) Narco Analysis (C) Biology (D) Toxicology

கா.நி.ஆ. எண் 497 இன்படி தமிழ்நாடு தடய அறிவியல் ஆய்வகமானது எந்த ஒரு பிரிவைத் தவிர மற்றவை பல பிரிவுகளைக் கொண்டுள்ளது

- (A) குருதியியல் (B) உண்மை தன்மை கண்டறிவும் வசதி
(C) உயிரியல் (D) நஞ்சுஇயல்



127. As per PSO 40, the list of qualified candidates suitable for promotion to the post of Sub-Inspectors shall be approved by
- (a) Superintendent of Police (b) Deputy Inspector General of Police
(c) Commissioner of Police (d) Inspector General of Police
(A) (a) and (d) are correct (B) All are correct
(C) (b) and (c) are correct (D) (b) only correct



தமிழ்நாடு காவல் நிலை ஆணை எண் 40 ன் படி, காவல் உதவி ஆய்வாளர் பதவி உயர்விற்கு தகுதியான நபர்களின் பட்டியலை அங்கீகரிப்பவர்

- (a) காவல் கண்காணிப்பாளர் (b) காவல்துறை துணை தலைவர்
(c) காவல் ஆணையர் (d) காவல்துறை தலைவர்
(A) (a) மற்றும் (d) சரி (B) அனைத்தும் சரி
(C) (b) மற்றும் (c) சரி (D) (b) மட்டும் சரி

128. As per PSO 749, who are classified as rowdies and rowdy sheets may be opened for
- (A) Persons who habitually commit offences
(B) Persons bound over under Section 106 and 107 Cr.P.C.
(C) Persons who are illicit distillers and known purveyors of liquor
(D) All are correct

கா.நி.ஆ. 749, போக்கிரி என யாரை வகைப்படுத்தி, அவர்களுக்காக போக்கிரி பதிவுத் தாள்களைத் தொடங்க வேண்டும் ?

- (A) குற்றங்களை வழக்கமாக செய்கின்ற நபர்
(B) குற்ற விசாரணை குற்ற சட்டம் பிரிவுகள் 106 மற்றும் 107 இன் கீழ் பிணையப் பெற்றவர்கள்
(C) கள்ளச் சாராயம் காயச்சுபவர், சாராயம் விற்போர் என்று அறியப்பட்டவர்
(D) அனைத்தும் சரியானவை

129. Which of the following is correct ?

- (i) As per PSO 715, a register of process in Form No. 100 shall be maintained in each Police Station.
(ii) At the end of the month, an abstract in Form No. 101 shall be entered in the process register.
(A) (i) is correct (ii) is wrong (B) (i) and (ii) are correct
(C) (i) is wrong (ii) is correct (D) (i) and (ii) are wrong



கீழ்க்கண்டவற்றுள் எது சரி ?

- (i) கா.நி.ஆணை 715 இன்படி ஒவ்வொரு காவல் நிலையத்திலும் நீதிமன்ற நிறைவேற்றக் கட்டளைப் பதிவேடு ஒன்றினை படிவம் எண் 100 இல் பராமரிக்க வேண்டும்.
(ii) மாத இறுதியில் படிவம் எண் 101 இல் சுருக்கம் ஒன்றினை இப்பதிவேட்டில் எழுத்திக் கொள்ள வேண்டும்.
(A) (i) சரி (ii) தவறு (B) (i) மற்றும் (ii) சரியானவை
(C) (i) தவறு (ii) சரி (D) (i) மற்றும் (ii) தவறானவை



130. As per PSO 726, who has the custody of Medical History Sheets of Head Constables and Constables ?

- (A) Police Station Writer (B) Station House Officer
(C) Deputy Superintendent of Police (D) Superintendent of Police

கா.நி.ஆ. 726 இன் படி தலைமைக் காவல் மற்றும் காவலர்களின் மருத்துவ வரலாற்றுக் குறிப்புகள் எந்த அதிகாரியின் பொறுப்பில் வைக்கப்படும் ?

- (A) காவல் நிலைய எழுத்தர் (B) காவல் நிலைய அதிகாரி
(C) துணை காவல் காண்காணிப்பாளர் (D) காவல்துறை கண்காணிப்பாளர்



131. Punishment for committing dacoity with murder is provided under Section _____ of IPC.

- (A) 395 (B) 396 (C) 397 (D) 398

இ.த.ச. வின் பிரிவு _____ ல் கூட்டு கொள்ளையுடன் கொலை செய்த குற்றத்திற்கான தண்டனைப் பற்றி கூறப்பட்டுள்ளது.

- (A) 395 (B) 396 (C) 397 (D) 398

132. The word "Document" is defined in the

- (A) Sec. 30 IPC (B) Sec. 24 IPC (C) Sec. 29 IPC (D) Sec. 25 IPC

"ஆவணம்" என்ற பதத்தினை பற்றி _____ ல் வரையறுக்கப்பட்டுள்ளது.

- (A) பிரிவு 30 இ.த.ச. (B) பிரிவு 24 இ.த.ச.
(C) பிரிவு 29 இ.த.ச. (D) பிரிவு 25 இ.த.ச.

133. Fracture of bone is _____ under Indian Penal Code.

- (A) Hurt (B) Grievous hurt
(C) Slight harm (D) Affray

இந்திய தண்டனைச் சட்டத்தில் எலும்பை முறித்தல் என்பது

- (A) காயம் (B) கொடுங்காயம்
(C) சிறுதீங்கு (D) சச்சரவு

134. Which of the following Section provide punishment for false evidence ?

- (A) Sec. 191 IPC (B) Sec. 180 IPC (C) Sec. 193 IPC (D) Sec. 8 IPC

கீழ்க்கண்ட எந்த சட்டப் பிரிவு, பொய் சாட்சியத்திற்கான தண்டனைப் பற்றி கூறுகிறது ?

- (A) பிரிவு 191 இ.த.ச. (B) பிரிவு 180 இ.த.ச.
(C) பிரிவு 193 இ.த.ச. (D) பிரிவு 8 இ.த.ச.

135. Section 108 of Indian Penal Code deals with

- (A) Movable property (B) Counterfeiting coin
(C) Abettor (D) Kidnapping

இந்திய தண்டனைச் சட்டத்தின் பிரிவு 108 _____ பற்றிக் கூறுகிறது.

- (A) அசையும் சொத்து (B) கள்ள நாணயம் தயாரித்தல்
(C) தூண்டுபவர் (D) பிள்ளைபிடித்தல்





136. Which of the following officers should attend Sessions Court during the trial of a case as per PSO 226 ?

- (A) Investigating Officer (IO) (B) Station Writer
(C) Station House Officer (D) Inspector of Police

கா.நி.ஆ. 226 யின் படி அமர்வு நீதிமன்றங்களில் ஒரு வழக்கு நீதிமன்றத்தில் விசாரணை செய்யப்படும் போது யார் ஆஜராக வேண்டும்

- (A) புலன் விசாரணை அதிகாரி (B) நிலைய எழுத்தர்
(C) காவல் நிலைய அலுவலர் (D) காவல்துறை ஆய்வாளர்



137. Which PSO speaks about men who turn out for dealing with crowds bandobust duty, patrol beats in disturbed areas should always be armed with lathis when lathis is required for self defence ?

- (A) PSO 265 (B) PSO 240 (C) PSO 250 (D) PSO 245

எந்த கா.நி.ஆ. கூட்டங்களைக் கட்டுப்படுத்துதல், பாதுகாப்பு அலுவல், சுற்று காவல் அமைதி குலைந்த இடங்களில் முறைக் காவல்கள் ஆகியவற்றின் போது தற்காப்புக்காக தடி தேவைப்படும் சமயம் வைத்திருத்தல் வேண்டும் என்று கூறுகிறது

- (A) கா.நி.ஆ. 265 (B) கா.நி.ஆ. 240 (C) கா.நி.ஆ. 250 (D) கா.நி.ஆ. 245

138. For all grave crime cases, a copy of the first information report is sent as 'Express Report' as per which PSO ?

- (A) PSO 565 (B) PSO 560 (C) PSO 555 (D) PSO 550

அனைத்து கடுமைத் தன்மையுடையதாகக் கருதப்படும் வழக்குகளுக்கு முதல் தகவல் அறிக்கை நகல்களை 'விரைவு அறிக்கைகளாக' எந்த கா.நி.ஆ. யின் படி அனுப்பப்படுகிறது ?

- (A) கா.நி.ஆ. 565 (B) கா.நி.ஆ. 560 (C) கா.நி.ஆ. 555 (D) கா.நி.ஆ. 550

139. As per PSO 117, which of the following officer having custody of personal file of Sub-Inspector of Police ?

- (A) Deputy Superintendent of Police (B) Superintendent of Police
(C) Deputy Inspector General of Police (D) Inspector General of Police

காவல் நிலைய ஆணை எண் 117 இன் படி கீழ்காணும் எந்த அதிகாரியின் பாதுகாப்பில் காவல் உதவி ஆய்வாளரின் இரகசியக் கோப்புகள் வைக்கப்படும்

- (A) காவல் துணை கண்காணிப்பாளர் (B) காவல் கண்காணிப்பாளர்
(C) காவல் துறைத் துணைத் தலைவர் (D) காவல் துறைத் தலைவர்

140. Which PSO speaks about village headmen will be held responsible for reporting cases of unlicensed possession of arms within their jurisdiction ?

- (A) PSO 550 (B) PSO 549 (C) PSO 545 (D) PSO 500

எந்த கா.நி.ஆ. யின் படி கிராமத் தலைமை அலுவலர்கள் தங்கள் அதிகார வரம்புக்குள் உரிமம் அளிக்கப்பெறாத ஆயுதங்கள் பற்றிய குற்ற வழக்குகளை தெரிவிப்பதற்குப் பொறுப்புள்ளவர்கள் ஆவார்கள் ?

- (A) கா.நி.ஆ. 550 (B) கா.நி.ஆ. 549 (C) கா.நி.ஆ. 545 (D) கா.நி.ஆ. 500

141. How many Railway Police Districts are there under Tamil Nadu Police Department ?

- (A) 2 (B) 3 (C) 4 (D) 5

தமிழக காவல்துறையின் கீழ் இயங்கும் இரயில்வே இருப்பு பாதை காவல் மாவட்டங்களின் எண்ணிக்கை ?

- (A) 2 (B) 3 (C) 4 (D) 5





142. Which of the following is correctly matched ?

Battalion	Place
a) TSP VIII BN	– New Delhi
b) TSP V BN	– Salem
c) TSP I BN	– Coimbatore
d) TSP III BN	– Vellore



- (A) a is correctly matched (B) b is correctly matched
(C) c is correctly matched (D) d is correctly matched

எது சரியாக பொருந்தியுள்ளது ?

சிறப்பு காவல்படை இடம்

a) த.சி.கா. VIII ஆம் அணி	– புதுடெல்லி
b) த.சி.கா. V ஆம் அணி	– சேலம்
c) த.சி.கா. I ஆம் அணி	– கோயம்புத்தூர்
d) த.சி.கா. III ஆம் அணி	– வேலூர்

- (A) a சரியாக பொருந்தியுள்ளது (B) b சரியாக பொருந்தியுள்ளது
(C) c சரியாக பொருந்தியுள்ளது (D) d சரியாக பொருந்தியுள்ளது

143. What is the time limit to apply for appointment on compassionate grounds ?

- (A) Within 3 years (B) Within 2 months
(C) Within 90 days (D) Within 180 days

கருணை அடிப்படையில் பணி நியமனம் பெற விண்ணப்பிக்கும் கால அவகாசம் என்ன ?

- (A) மூன்று ஆண்டுகளுக்குள் (B) இரண்டு மாதங்களுக்குள்
(C) தொண்ணூறு நாட்களுக்குள் (D) நூற்றென்பது நாட்களுக்குள்

144. For Government employee under new Contributory Pension Scheme (CPS), _____ percentage of Pay and Dearness Allowance (DA) is deducted as monthly contribution.

- (A) 8% (B) 9% (C) 10% (D) 12%

புதிய பங்களிப்பு ஓய்வூதியத் திட்டத்தின் கீழ் இடம்பெறும் அரசு ஊழியர்களின் ஊதியம் மற்றும் அகவிலைப்படியில் _____ சதவீதம் மாத சந்தாத் தொகையாகப் பிடித்தம் செய்யப்படும்.

- (A) 8% (B) 9% (C) 10% (D) 12%

145. Which of the following services are given to public by Tamil Nadu Police Department at free of cost through its websites ?

- (a) FIR status (b) Arrested person's details
(A) Only (a) (B) Only (b)
(C) Both (a) and (b) (D) Neither (a) nor (b)



கீழ்க்கண்டவற்றுள் தமிழக காவல்துறையின் மூலம் மக்களுக்கு இலவசமாக வழங்கப்படும் சேவைகள் யாவை ?

- (a) முதல் தகவல் அறிக்கையின் நிலை (b) கைது செய்யப்பட்டவர்களின் விவரங்கள்
(A) (a) மட்டும் (B) (b) மட்டும்
(C) (a) மட்டும் (b) இரண்டும் (D) (a) மற்றும் (b) இல்லை

146. Find out the wrong match :

- (i) Arrest by Police Officer : Section 41 Cr.P.C.
 (ii) Arrest by private person : Sec. 43 Cr.P.C.
 (iii) Arrest by Magistrate : Sec. 42 Cr.P.C.
 (A) (iii) only (B) (ii) only (C) (i) only (D) None of the above

தவறான இணையை கண்டறிக.

- (i) காவல் அதிகாரியால் கைது மேற்கொள்ளப்படுதல் : 41 கு.வி.ந.ச.
 (ii) தனி நபரால் கைது மேற்கொள்ளப்படுவது : 43 கு.வி.ந.ச.
 (iii) நடுவரால் கைது மேற்கொள்ளப்படுவது : 42 கு.வி.ந.ச.
 (A) (iii) மட்டும் (B) (ii) மட்டும்
 (C) (i) மட்டும் (D) மேற்கண்ட எவையுமில்லை

147. "Notice of appearance before Police Officer" is issued under the Sec. _____ of Cr.P.C.

- (A) 41 D (B) 41 C (C) 41 B (D) 41 A

காவல் அதிகாரியின் முன் ஆஜர் ஆக அறிவிப்பு கொடுத்தல் கு.வி.ந.ச. பிரிவு _____ ன் கீழ் அமையும்.

- (A) 41 D (B) 41 C (C) 41 B (D) 41 A

148. Under which Section of Cr.P.C., no person shall be detained in custody of Police Officer more than 24 hours in the absence of a special order of a Magistrate ?

- (A) 56 (B) 57 (C) 58 (D) 59

குற்றவியல் விசாரணை முறைச் சட்டத்தின் எந்த பிரிவின் படி நடுவரின் சிறப்புக் கட்டளை இல்லாத பட்சத்தில் 24 மணி நேரத்திற்கு மேல் கைது செய்யப்பட்ட நபரை காவலில் வைத்திருக்க கூடாது.

- (A) 56 (B) 57 (C) 58 (D) 59

149. Under which Section of Cr.P.C., District Magistrate (or) Judicial Magistrate can issue search warrant to any Person, if he has reason to believe that an individual is wrongly confined ?

- (A) 94 (B) 93 (C) 97 (D) 96

ஒரு நபர் சட்ட முரணாக அடைத்துவைக்கப் பட்டு உள்ளார் என மாவட்ட நடுவரோ (அல்லது) நீதித்துறை நடுவரோ கருதினால் எவ்வாருவருக்கும் சோதனை ஆணையை, குற்றவியல் நடைமுறைச் சட்டத்தின் எந்த பிரிவின் கீழ் வழங்கலாம்

- (A) 94 (B) 93 (C) 97 (D) 96

150. Find out the correct match :

- (i) Examination of the accused : Sec. 313 Cr.P.C.
 (ii) Examination of the accused by Medical Practitioner : Sec. 164 Cr.P.C.
 (iii) Examination of the victim of rape : Sec. 53 Cr.P.C.
 (A) (ii) only (B) (i) only (C) (iii) only (D) (ii) and (iii) only

சரியான பொறுத்தத்தை கண்டறிக :

- (i) குற்றம் சுமத்தப்பட்டவரை விசாரித்தல் : பிரிவு 313 கு.வி.ந.ச.
 (ii) குற்றம் சுமத்தப்பட்டவரை மருத்துவர் சோதித்தல் : பிரிவு 164 கு.வி.ந.ச.
 (iii) வன்புணர்வு குற்றத்தில் பாதிக்கப்பட்ட நபரை சோதித்தல் : பிரிவு 53 கு.வி.ந.ச.
 (A) (ii) மட்டும் (B) (i) மட்டும்
 (C) (iii) மட்டும் (D) (ii) மற்றும் (iii) மட்டும்



151. Match the following :

Offence	Penal Section
a) Unnatural offence	i) Sec. 310 IPC
b) Punishment for kidnapping	ii) Sec. 377 IPC
c) Thug	iii) Sec. 319 IPC
d) Hurt	iv) Sec. 363 IPC
(A) a-ii, b-iv, c-i, d-iii	(B) a-i, b-ii, c-iii, d-iv
(C) a-iii, b-iv, c-ii, d-i	(D) a-iv, b-iii, c-ii, d-i



பொருத்துக.

குற்றம்	தண்டனைப் பிரிவு
a) இயற்கைக்கு மாறான குற்றம்	i) பிரிவு 310 இ.த.ச.
b) கடத்துதலுக்கான தண்டனை	ii) பிரிவு 377 இ.த.ச.
c) குண்டர்	iii) பிரிவு 319 இ.த.ச.
d) காயம்	iv) பிரிவு 363 இ.த.ச.
(A) a-ii, b-iv, c-i, d-iii	(B) a-i, b-ii, c-iii, d-iv
(C) a-iii, b-iv, c-ii, d-i	(D) a-iv, b-iii, c-ii, d-i

152. Match the following :

Offence	Penal Section
a) Murder by life convict	i) 304 (A) IPC
b) Culpable homicide not amounting to murder	ii) 305 IPC
c) Causing death by negligence	iii) 303 IPC
d) Abetment of suicide of child or insane person	iv) 304 IPC
(A) a-i, b-ii, c-iii, d-iv	(B) a-iii, b-iv, c-i, d-ii
(C) a-ii, b-iii, c-iv, d-i	(D) a-iv, b-i, c-ii, d-iii

பொருத்துக.

குற்றம்	தண்டனை சட்டப்பிரிவு
a) ஆயுள் சிறைக் கைதியால் செய்யப்பட்ட கொலைக் குற்றம்	i) 304 (அ) இ.த.ச.
b) கொலைக்குற்றமாகாத மரணம் விளைவிக்கும் குற்றம்	ii) 305 இ.த.ச.
c) கவனமின்மையால் மரணம் விளைவித்தல்	iii) 303 இ.த.ச.
d) குழந்தையின் அல்லது மனநிலை பாதிக்கப்பட்டவரின் தற்கொலைக்கு தூண்டுதல்	iv) 304 இ.த.ச.
(A) a-i, b-ii, c-iii, d-iv	(B) a-iii, b-iv, c-i, d-ii
(C) a-ii, b-iii, c-iv, d-i	(D) a-iv, b-i, c-ii, d-iii



153. Which Section of IPC deals with attempt to commit robbery ?

- (A) 392 (B) 398 (C) 394 (D) 393

கொள்ளையடிக்க முயற்சி செய்தல் பற்றி இ.த.ச. வின் எந்தப் பிரிவு கூறுகிறது ?

- (A) 392 (B) 398 (C) 394 (D) 393

154. Punishment for cheating is given under Section _____ of Indian Penal Code.

- (A) 414 (B) 415 (C) 416 (D) 417

இந்திய தண்டனைச் சட்டத்தில் ஏமாற்றுவதற்கான தண்டனை குறித்து பிரிவு _____ ல் வழங்கப்பட்டுள்ளது.

- (A) 414 (B) 415 (C) 416 (D) 417



155. Which Section of Indian Penal Code defines wrongful confinement ?

- (A) 340 (B) 240 (C) 339 (D) None of the above

சட்ட விரோதமாக அடைத்து வைத்தல் பற்றி இந்திய தண்டனைச் சட்டத்தில் எந்தப் பிரிவில் வரையறுக்கப்பட்டுள்ளது

- (A) 340 (B) 240
(C) 339 (D) மேலே குறிப்பிட்ட எதுவுமல்ல

156. A person can be summoned as a witness under Section 160 of Cr.P.C. by

- (A) Judicial Magistrate (B) Metropolitan Magistrate
(C) An Investigating Officer (D) All the above



குற்றவியல் விசாரணை நடைமுறைச் சட்டப்படி (பிரிவு) 160 ன் கீழ் சாட்சியாக ஒருவரை அழைக்க அதிகாரமுடைய நபர்

- (A) நீதித்துறை நடுவர் (B) பெருநகர நடுவர்
(C) புலன் விசாரணை அதிகாரி (D) மேற்கண்ட அனைவரும்

157. As per the Section 37 of the Cr.P.C., every person is bound to assist

- (i) a Magistrate
(ii) Police Officer
(iii) other than Police Officer, executing warrant.

- (A) (i) only (B) (ii) only
(C) (i) and (ii) only (D) (ii) and (iii) only

குற்றவியல் விசாரணை முறைச் சட்டம் பிரிவு 37 ன் கீழ் எந்தவொரு நபரும் _____க்கு உதவி செய்ய கடமைப்பட்டவர்கள்.

- (i) நடுவருக்கு
(ii) காவலதிகாரிக்கு
(iii) காவலதிகாரி அல்லாத, பிடியாணையை செயல்படுத்துபவருக்கு

- (A) (i) மட்டும் (B) (ii) மட்டும்
(C) (i) மற்றும் (ii) மட்டும் (D) (ii) மற்றும் (iii) மட்டும்

158. In the Code of Criminal Procedure ;

- (i) Complaint – Section 2(d) Cr.P.C.
(ii) F.I.R. – Section 154 Cr.P.C.
(iii) Examination of complaint – Section 200 Cr.P.C.
(iv) Investigation – Section 2(h) Cr.P.C.

Find out the wrong match.

- (A) (i) and (iv) only (B) (iii) and (ii) only
(C) None of the above (D) All the above

குற்றவியல் நடைமுறைச்சட்டப்படி

- (i) புகார் – பிரிவு 2(d) கு.வி.ந.ச.
(ii) முதல் தகவலறிக்கை – பிரிவு 154 கு.வி.ந.ச.
(iii) புகாரினை விசாரிப்பது – பிரிவு 200 கு.வி.ந.ச.
(iv) புலன் விசாரணை – பிரிவு 2(h) கு.வி.ந.ச.



தவறான இணையைக் கண்டறிக.

- (A) (i) மற்றும் (iv) மட்டும் (B) (iii) மற்றும் (ii) மட்டும்
(C) மேற்கண்ட எதுவுமில்லை (D) மேற்கண்ட அனைத்தும்



159. As per the Section 2 of Cr.P.C., "Police report" means

- (A) Statement recorded by a Police Officer
 (B) Report send by Police Officer to Judicial Magistrate regarding arrest of accused
 (C) Report of Police Officer on completion of investigation
 (D) None of the above

கு.வி.ந.ச. பிரிவு 2 ன் படி "காவலறிக்கை" எனப்படுவது



- (A) காவலதிகாரி பதிவு செய்த வாக்குமூலம்
 (B) நீதித்துறை நடுவருக்கு, குற்றம் சாட்டப்பெற்றவரை கைது செய்தது குறித்து அறிக்கை அனுப்புதல்
 (C) புலன் விசாரணை முடிவில் காவலதிகாரி அனுப்பும் அறிக்கை
 (D) மேற்கண்ட எவையும் இல்லை

160. Procedures relating to trial of accused person being lunatic is covered in Sec. _____ of Cr.P.C.

- (A) 328 (B) 228 (C) 428 (D) 128

குற்றவாளி பித்துநிலையினராக இருக்கும் பட்சத்தில் அவர்கள் தொடர்பான வழக்கு விசாரணை பற்றிய நடைமுறை, கு.வி.ந.ச. _____ பிரிவில் கூறப்பட்டுள்ளது.

- (A) 328 (B) 228 (C) 428 (D) 128

161. The circumstances under which the secondary evidence is admissible have been enumerated in _____ of IEA.

- (A) Section 63 (B) Section 64 (C) Section 65 (D) Section 66

இந்தியச் சாட்சியச் சட்டத்தில் எந்த பிரிவில் எந்தெந்த சந்தர்பங்களில் ஆவணங்கள் சம்பந்தப்பட்ட இரண்டாந்தர சாட்சியம் கொடுக்கப்படலாம் என குறிப்பிடப்பட்டுள்ளது ?

- (A) பிரிவு 63 (B) பிரிவு 64 (C) பிரிவு 65 (D) பிரிவு 66

162. According to which Act, Section 113-B of IEA was inserted ?

- (A) The Dowry Prohibition (Amendment) Act, 1986
 (B) The Child Marriage Act, 2006
 (C) The Domestic Violence Act, 2005
 (D) None of the above

எந்த சட்டத்தின் படி இந்தியச் சாட்சியச் சட்டத்தில் பிரிவு 113-B சேர்க்கப்பட்டது ?

- (A) வரதட்சணை தடை சட்டம், 1986 (திருத்தம்)
 (B) குழந்தைத் திருமணத் தடை சட்டம், 2006
 (C) பெண்கள் குடும்ப வன்முறைப் பாதுகாப்புச் சட்டம், 2005
 (D) மேற்கண்ட ஏதும் இல்லை



163. _____ of IEA says about relevancy of statements in maps, charts and plans.

- (A) Section 35 (B) Section 36 (C) Section 37 (D) Section 38

_____ இந்திய சாட்சியச் சட்டம், புவிப்படங்களிலும், விளக்க அட்டவணைப் படங்களிலும் அமைப்பு படங்களிலும் உள்ள உரைகளின் தொடர்புடைமை பற்றி கூறுகிறது ?

- (A) பிரிவு 35 (B) பிரிவு 36 (C) பிரிவு 37 (D) பிரிவு 38



164. Choose the correct pair.

- a) Section 151 of IEA – Indecent and scandalous questions.
 b) Section 152 of IEA – Questions intended to insult or annoy.
 c) Section 155 of IEA – Impeaching credit of witness.



- (A) a and b (B) b and c (C) c and a (D) All the above

சரியான இணையினை தேர்ந்தெடுக்கவும்.

- a) பிரிவு 151 இ.சா.ச. – கேவலமான மற்றும் பழிதூற்றும் கேள்விகள்.
 b) பிரிவு 152 இ.சா.ச. – நிந்திக்கக் கருதியோ தொந்தரவு கொடுக்க கருதியோ கேட்கப்படும் கேள்விகள்.

c) பிரிவு 155 இ.சா.ச. – சாட்சியின் நேர்மையைத் தாக்குதல்.

- (A) a மற்றும் b (B) b மற்றும் c (C) c மற்றும் a (D) மேற்கண்ட அனைத்தும்

165. In criminal proceedings against any person, the husband or wife of such person respectively shall be a competent witness. Such witness person shall be a

- (A) Legally wedded husband and wife (B) Person in live-in relationship
 (C) Person not previously convicted (D) Divorce person

ஒருவர் மீதுள்ள குற்ற வழக்கு நடவடிக்கைகளில் முறையே, அவருடைய கணவர் அல்லது மனைவி ஒரு தகுதி வாய்ந்த சாட்சியாக இருப்பார். அப்படிப்பட்ட சாட்சியானவர்,

- (A) முறைப்படி திருமணமான கணவன் மனைவியாக இருத்தல் வேண்டும்
 (B) திருமணம் செய்யாமல் சேர்ந்து வாழும் நபர்
 (C) ஏற்கனவே தண்டனைபெற்ற நபராக இருத்தல் கூடாது
 (D) விவாகரத்து பெற்ற நபர்

166. Punishment for committing dishonest misappropriation of property possessed by deceased person at the time of his death is dealt in

- (A) Sec. 402 IPC (B) Sec. 403 IPC (C) Sec. 404 IPC (D) Sec. 414 IPC

இறந்துபோனவரிடம் அவரது இறப்பின் போது இருந்த பொருளை நேர்மையற்ற முறையில் கையாடல் செய்த குற்றத்திற்கு தண்டனை எந்த சட்ட பிரிவில் குறிப்பிடப்பட்டுள்ளது

- (A) பிரிவு 402 இ.த.ச. (B) பிரிவு 403 இ.த.ச.
 (C) பிரிவு 404 இ.த.ச. (D) பிரிவு 414 இ.த.ச.



167. Voluntarily causing hurt to deter public servant from his duty is punishable under which Section of IPC ?

- (A) 331 (B) 332 (C) 333 (D) 334

பொது ஊழியரை அவரது கடமையிலிருந்து தடுக்க தன்னிச்சையாக காயம் விளைவித்தலுக்கான தண்டனை இ.த.ச.-வின் எந்தப் பிரிவில் கூறப்பட்டுள்ளது ?

- (A) 331 (B) 332 (C) 333 (D) 334



168. Misconduct in public by a drunken person will be punished under Section

- (A) 510 IPC (B) 75 IPC (C) 324 IPC (D) 260 IPC

குடிபோதையில் பொது இடத்தில் ஒழுங்கீனமாக நடந்து கொள்ளும் ஒருவர் _____ பிரிவின் கீழ் தண்டிக்கப்படுவார்.

- (A) 510 இ.த.ச. (B) 75 இ.த.ச. (C) 324 இ.த.ச. (D) 260 இ.த.ச.



169. "Criminal breach of trust by a public servant" is dealt under Section _____ of Indian Penal Code.

- (A) 406 (B) 407 (C) 408 (D) 409

இந்திய தண்டனைச் சட்டத்தில் "பொது ஊழியர் ஒருவரால் செய்யப்படும் நம்பிக்கை மோசடிக் குற்றம்" பற்றி கூறும் பிரிவு

- (A) 406 (B) 407 (C) 408 (D) 409

170. Pick out the correct statement.

- a. Sec. 494 IPC is penal section for marrying again during lifetime of husband and wife.
- b. Sec. 500 IPC is penal section for Defamation.
- c. Sec. 507 IPC is penal section for criminal intimidation by anonymous communication.
- d. Sec. 510 IPC is penal section for misconduct in public by drunken person.

- (A) b, c, d are correct (B) a and b are correct
(C) All are correct (D) All are wrong

சரியான கூற்றை தேர்ந்தெடுக்கவும்.



- a. இ.த.ச. சட்டப்பிரிவு 494 கணவன்(அ) மனைவி உயிருடன் இருக்கும் போதே மீண்டும் திருமணம் செய்தால் தண்டனை பெறும் பிரிவு.
- b. இ.த.ச. சட்டப்பிரிவு 500 வானது அவதூறுக்கான தண்டனை பற்றி பேசுகிறது.
- c. இ.த.ச. சட்டப்பிரிவு 507 வானது மொட்டை கடிதத்தின் மூலம் மிரட்டுவதற்கான தண்டனை பற்றிய சட்டம்.
- d. இ.த.ச. சட்டப்பிரிவு 510வானது குடிபோதையில் பொது இடத்தில் ஒழுங்கீனமாக நடந்து கொள்வதற்கான தண்டனை பற்றி கூறுகிறது.

- (A) b, c, d சரியானது (B) a மற்றும் b மட்டுமே சரியானது
(C) அனைத்தும் சரியானது (D) அனைத்தும் தவறானது

SUB-INSPECTOR OF POLICE-2022

DEPARTMENT

WRITTEN EXAMINATION – FINAL ANSWER KEY

QUESTION BOOKLET SERIES - A

Q. No.	ANSWER	Q. No.	ANSWER	Q. No.	ANSWER	Q. No.	ANSWER
1	D	26	C	51	B	76	A
2	D	27	C	52	A/B/C/D	77	B
3	B	28	D	53	A	78	C
4	D	29	C	54	C	79	A
5	A	30	A	55	B	80	C
6	D	31	A	56	D	81	C
7	C	32	C	57	B	82	D
8	B	33	C	58	C	83	B
9	A	34	B	59	A	84	D
10	C	35	D	60	A	85	C
11	B	36	C	61	D	86	D
12	C	37	B	62	D	87	A
13	B	38	C	63	A	88	C
14	D	39	D	64	B	89	D
15	A	40	C	65	D	90	C
16	A	41	A	66	B	91	B
17	B	42	B	67	C	92	A
18	C	43	B	68	B	93	B
19	A	44	B	69	B	94	D
20	B	45	A	70	C	95	D
21	C	46	C	71	A	96	D
22	C	47	D	72	B	97	A
23	B	48	C	73	B	98	B
24	A	49	B	74	C	99	A
25	A	50	C	75	A	100	D

QUESTION BOOKLET SERIES - A

Q. No.	ANSWER	Q. No.	ANSWER	Q. No.	ANSWER
101	B	126	B	151	A
102	C	127	C	152	B
103	B	128	D	153	D
104	A/B/C/D	129	B	154	D
105	B	130	B	155	A
106	B	131	B	156	C
107	D	132	C	157	C
108	B	133	B	158	A/B/C/D
109	C	134	C	159	C
110	C	135	C	160	A
111	C	136	A	161	C
112	D	137	D	162	A
113	C	138	C	163	B
114	A	139	B	164	D
115	A	140	B	165	A
116	A	141	A	166	C
117	B	142	A	167	B
118	C	143	A	168	A
119	B	144	C	169	D
120	D	145	C	170	C
121	C	146	A		
122	A	147	D		
123	A/B/C/D	148	B		
124	A	149	C		
125	A	150	B		